

1. Okur için edebî türlerin en çapraşık sokağı şiiirdir. Bu, belki de en çok sevilen tür için farklı bir değerlendirme anlamına gelebilir ancak şairin söz oyunları, başvurduğu imgeler şiiirlerin tam olarak anlaşılmasının önünde her zaman engel olmuştur. Hâl böyle olunca her okur şiiir denen çiçek dalından kendince bal almaya çalışmıştır. Belki de şiiirin çok sevilmesinin temelinde bu vardır. Her defasında sonuca ulaşmak için çıkılan bir yol ancak hepsinde de karşılaşılan henüz tamamlanmamış bir yol...

**Bu parçada geçen “en çapraşık sokak” sözü ile şiiire yönelik anlatılmak istenen aşağıdakilerden hangisidir?**

- A) Karşılık beklenmeden çıkılan bir yolculuk olması
- B) İmkânsızlığın peşinden gidilen gereksiz bir uğraş olması
- C) Anlaşılması ya da çözülmesinin güç ve muğlak olması
- D) Farklı yapıdaki sözcük ve sanatlarla örülü olmayı gerektirmesi
- E) İnsanların anlamaması için kaleme alınan bir tür olması

2. Psikanalitik edebiyat eleştirisi, yazarın bilinçaltına ışık tutmasının yanında anlatı kahramanlarının psikolojilerinin ve davranışlarının altında yatan nedenlerin anlaşılmasını sağlar. Bazı

I

edebiyat araştırmacıları, psikanalitik kuramın varoluş sebeplerini, yazarın bilinçaltını açığa

II

çıkarmak, eserdeki kişilerin psikolojik durumlarına eğilmek ve bir taraftan da yaratma eyleminin

III

nasıllığını araştırmak biçiminde sıralamaktadır.

IV

Yazarın yaratma psikolojisi, geçirdiği ruhsal ve zihinsel değişimler eserlerine yansır.

V

**Bu parçadaki numaralanmış sözlerden hangileri anlamca birbirine en yakındır?**

- A) I. ve II.                      B) I. ve III.                      C) II. ve IV.
- D) III. ve V.                      E) IV. ve V.

3. I. yargılarının, gelenek ve göreneklerinin  
II. coğrafi koşulların, ekonomik ve kültürel  
III. en önemli ve doğal göstergelerinden biri  
IV. giyim kuşam bir toplumun içinde yaşadığı  
V. özelliklerinin, sahip olduğu değer

**Yukarıdaki numaralanmış sözler anlamlı ve kurallı bir cümle oluşturacak biçimde sıralandığında hangisi baştan üçüncü olur?**

- A) I. B) II. C) III. D) IV. E) V.

4. I. yüzleşmeyi seviyor demektir  
II. topluma yönelen şair, içinde bulunduğu  
III. ve toplumsal gerçekliği temel alan  
IV. Nazım Hikmet'le başlamıştır  
V. sosyal ve siyasi olay ya da durumlarla  
VI. bu şiir anlayışı, bizde ağırlıklı olarak

**Yukarıdaki numaralanmış sözler anlamlı ve kurallı bir cümle oluşturacak biçimde sıralandığında hangisi sonuncu olur?**

- A) II. B) III. C) IV. D) V. E) VI.

5. Bir sanatçı; içinde ---- ve büyüdüğü toplumu eserlerine ---- gerektiğini, ---- ortaya koyduklarının da kendinin de dikkat çekmeyeceğini bilir.

**Bu cümleyi anlam bakımından tamamlayan en uygun sözler aşağıdakilerin hangisinde sırasıyla verilmiştir?**

- A) bulunduğu - aktarması - bu sayede  
B) yaşadığı - taşıması - sonuç olarak  
C) doğduğu - yansıması - aksi takdirde  
D) sahip olduğu - çizmesi - o hâlde  
E) yürüdüğü - çarpıtması - başka bir deyişle

6. (I) Kutup ayılarının temel besin kaynağı halkalı foklardır. (II) Kutup ayıları yıllık enerji ihtiyaçlarının büyük kısmını bu fokları avlayarak karşılıyor. (III) Vücutlarına depoladıkları yağı ise deniz buzullarının çok küçüldüğü, besin bulmanın zorlaştığı yaz aylarında enerji ihtiyaçlarını karşılamak için kullanıyorlar. (IV) Kutup ayılarının fokları avlamasında deniz buzullarının önemli rolü olduğu görülüyor. (V) Çünkü deniz buzulları, kutup ayılarının açık denizde uzak mesafelere ulaşmasına ve fokları avlayabilmelerine olanak sağlıyor.

**Bu parçadaki numaralanmış cümlelerin hangisinde amaç anlamı vardır?**

- A) I. B) II. C) III. D) IV. E) V.

7. (I) Birinci baskısı 1986 yılında yapılan *Şiir ve Gerçeklik*, çeşitli konularla ilgili denemelerden oluşturulmuştur. (II) Kitap içerisinde açıklanan kavramlar ve anlatılan durumlarla ilgili alanında ün salmış kişilerin görüşlerine yer verilmiştir. (III) Sanatçı, kendi fikir ve tespitlerini eleştirel üslubuyla açıklayarak mantık kuralları çerçevesinde sağlam bir zemine oturtmuştur. (IV) Bu sayede okuyucunun zihnini saydamlaştırmıştır. (V) Sonuç olarak da alanında kaynak olan bir yapıt ortaya çıkmıştır.

**Şiir ve Gerçeklik adlı yapıtın konu edildiği bu parçadaki numaralanmış cümlelerle ilgili aşağıdakilerden hangisi yanlıştır?**

- A) I.de, ilk yayımlanma tarihi ve içeriği ile ilgili açıklamalar yapılmıştır.  
B) II.de, tanınmış kişilerin hayatları ile ilgili metinler de içerdiği belirtilmiştir.  
C) III.de, dil ve anlatımına yönelik bir tespit dile getirilmiştir.  
D) IV.de, dil ve anlatım tercihinin ortaya çıkardığı sonuç ifade edilmiştir.  
E) V.de, bir başvuru kitabı niteliğine sahip olduğu belirtilmiştir.

**8. Aşağıdaki cümlelerin hangisinde tamlayanı cümle olan bir isim tamlaması vardır?**

- A) 1063-1072 yılları arasında tahtta oturan Sultan Alparslan, Türk tarihinin önemli hükümdarlarından biridir.
- B) Edebiyatın daha çok öykü ve roman türünde eserler veren bu sanatçı, postmodernist tavrı ile dikkat çekmektedir.
- C) Kültürel hafıza, geçmişin bazen fiilî bir aktör bazen de bir tanık olarak adlandırılmasına yol açmaktadır.
- D) Mimar Sinan, geniş Osmanlı coğrafyasına bıraktığı sayısız eserlerle ve bu eserlerinde görülen tasarım anlayışıyla Türk mimarisinin gelmiş geçmiş en büyük mimarı olarak ünlenmiştir.
- E) Tanzimat Dönemi'ndeki halkı edebî eserler yoluyla eğitmeliyiz anlayışı, ilk zamanlarda niteliksiz ürünlerin ortaya çıkmasına neden oldu.

- 9.** Dünya nüfustaki hızlı artış ile insanların hayvansal kaynaklı gıda gereksinimlerinin karşılanmasında önemli sorunlar ortaya çıkmaktadır. Hayvancılık faaliyetlerinde et, süt, yumurta gibi ürünlerin elde edilebilmesi için çiftlik hayvanlarının fonksiyonlarının ve gereksinimlerinin iyi bilinmesi, yaşamlarını devam ettirmeleri, kaliteli ve yüksek miktarda ürün vermeleri için düzgün ve yeterli beslenmeleri gerekmektedir.

**Bu parçada aşağıdakilerden hangisi yoktur?**

- A) Durum zarfı                      B) Edat  
C) Çekimli fiil                      D) Zamir  
E) Bağlaç

**10.** Orman dediğimiz doğa parçaları, bünyesinde

I  
II  
yalnızca bitkileri taşımıyor. Ormanlar, binlerce  
III  
tür canlının yanında toprak, su ve organizmalar-  
dan meydana gelen bir yaşam döngüsünü de  
IV  
içeriyor.  
V

**Bu parçadaki numaralanmış sözcüklerden hangisi yapı bakımından diğerlerinden farklıdır?**

- A) I.      B) II.      C) III.      D) IV.      E) V.

- 11.** Psikoloji öğrencilerinin sıklıkla yaşadıkları sıkıntılardan biri de klasik çalışmaların yer aldığı ders kitaplarındaki metinlerle rahat ve eleştirel bir ilişki kuramamalarıdır.

**Bu cümle ile ilgili olarak aşağıdakilerden hangisi yanlıştır?**

- A) Öge dizilişi özne ve yüklem biçimindedir.  
B) Yükleminin türüne göre fiil cümlesidir.  
C) Yapı bakımından birleşiktir.  
D) Yükleminin yerine göre kurallıdır.  
E) Öznesi bir söz öbeğidir.

- 12.** (I) Karacaoğlan XVII. yüzyılda yaşamış bir saz şairidir. (II) Onun doğduğu yer, doğum ve ölüm tarihleri hâlen bilim insanlarını uğraştıran konular arasındadır. (III) Anadolu'nun farklı yörelerinden birçok insan, şairi kendi memleketlisi olarak kabul etmektedir. (IV) İşte bu yerlerden biri de Sarıveliler'dir. (V) Karacaoğlan'ın bir şiirinden hareketle ortaya çıkan bu sahiplenme, geçtiğimiz yıllarda Karacaoğlan'a ait olduğu iddia edilen bir mezar taşı ile tescilleme istenmiştir.

**Bu parçadaki numaralanmış cümlelerin hangisinde anlatım bozukluğu vardır?**

- A) I.      B) II.      C) III.      D) IV.      E) V.

13. Bir kavmi uykusundan uyandırır bu hâller  
Doğar aç midelerden nur topu ihtilaller  
Bir diyarda almazsa herkes irfan hakkını  
Her çekilen hançerin boş kalacaktır kını

**Bu dizelerde görülen ses olayları aşağıdaki-  
lerin hangisinde verilmiştir?**

- A) Ünsüz yumuşaması - Ünsüz benzeşmesi  
B) Ünlü düşmesi - Ünsüz türemesi  
C) Ünlü türemesi - Ünsüz yumuşaması  
D) Ünlü düşmesi - Ünsüz düşmesi  
E) Ünsüz benzeşmesi - Ünsüz türemesi

15. Beethoven'ın sanatsal yaratıcılığı üç evrede  
I  
incelenmektedir : 1802'ye kadar olan ilk dönem,  
II

bu yıl ile 1815 arasındaki orta dönem ve  
1815-1827 yılları arasındaki son dönem...  
III IV

Bu evrelerden her biri, onun besteciliğinin  
V

gelişim sürecindeki köklü değişimleri yansıtan  
temel bir paradigma olarak anlaşılmaktadır.

**Bu parçadaki numaralanmış noktalama işa-  
retlerinden hangisinin kullanımı yanlıştır?**

- A) I. B) II. C) III. D) IV. E) V.

14. Demiryolları denince İngiliz ve Almanların bu  
I II

alandaki tartışılmaz üstünlüğünü anmamak  
olmaz. Ayak bastıkları pek çok yerde öncelikle  
III

bu alana el atan bu ülkelerden İngiltere'nin  
IV V

etkisinin en çok hissedildiği yerlerin başındaysa  
Hindistan geliyor.

**Bu parçadaki numaralanmış sözcüklerden  
hangisinin yazımı yanlıştır?**

- A) I. B) II. C) III. D) IV. E) V.

16. Çivit gibi mavi göğün sarı toprağa değen uçların-  
dan güneşin ulvi dalgaları köyü kıpkızıl sarmıştı.  
Gökte hiç bulut yoktu. Hava sıcak ve ağırdı;  
kızıl loşluğun indiği dar, gübreli sokaklardan  
keskin bir ahır kokusu çıkıyor; evlere dönen  
inekler çingiraklarını sallayarak kendi kapıları  
önünde duruyor, boynuzlarıyla duvara vuruyor,  
sonra sabırla bekliyorlardı. Bazen elinde bakraç,  
yazma baş örtüsü arkasına atılmış örgülerini  
sallayarak bir kız duvarlardan açılan küçük  
bir kapıdan çıkıyor; bazen uzun sopasının bir  
ucunu arkasından, kollarının altından geçirmiş  
bir çoban çocuk başı önünde bir türkü mırıldanarak dönüyordu.

**Bu parçanın anlatımıyla ilgili aşağıdakilerden  
hangisi söylenemez?**

- A) Betimleyici anlatımdan yararlanılmıştır.  
B) Duyular arası aktarıma başvurulmuştur.  
C) İkilemelerle anlatım pekiştirilmiştir.  
D) Olaylar bir devrim içinde sunulmuştur.  
E) Yansıma sözcüklerden faydalanılmıştır.



17. (I) 19. asrın ikinci yarısından itibaren görünmeye başlayan, etki ve önemini günümüze kadar yitirmeden sürdüren edebiyat dergiciliğinin asıl edebî kimliğe kavuşması, hiç şüphesiz *Servet-i Fünun* dergisiyle başlar. (II) Bu dönemden itibaren birçok edebiyat dergisi, edebî toplulukların oluşmasında, yeni edebiyat anlayışlarının yerleşmesinde ve dönem dönem genç kuşak şair ve yazarların yetişmesinde birinci dereceden önem arz etmiştir. (III) Dolayısıyla gerek Türk edebiyatı tarihi araştırmalarında gerekse edebiyatçılar üzerine yapılan çalışmalarda dergiler her zaman vazgeçilmezliğini korumuştur. (IV) Söz konusu öneminden ötürü dergiler ve dergi faaliyetleri âdeta başlı başına bir araştırma alanı hâline gelmiştir. (V) Şair ve yazarlar, evvela üretkenliklerini ve yetkinliklerini edebiyat dergilerinde ispat eder, ürünlerini sergiler. (VI) Bir bakıma dergiler, şair ve yazarları gerek okuyucu gerekse zaman karşısında bir nevi kalıcılık sınavına tabi tutar.

**Bu parça iki paragrafa ayrılacak istense ikinci paragraf numaralanmış cümlelerden hangisiyle başlar?**

- A) II.      B) III.      C) IV.      D) V.      E) VI.

18. I. Gıda üretim ve muhafazasında en eski ve ekonomik yöntemlerden birisi fermantasyon yani mayalama ve bekletme yöntemidir.  
II. Bu yöntemle elde edilmiş gıdalar, sağlık üzerinde olumlu etkilerinden dolayı dünya çapında yaygın olarak üretilip tüketilmektedir.  
III. Boza; danı, mısır, pirinç, buğday gibi tahıllardan elde edilmektedir ve karakteristik bir tada, açık sarı bir renge sahiptir.  
IV. Geleneksel mutfagımızda bulunan ve fermente özellik taşıyan, tahıl bazlı içeceklerden biri de bozadır.  
V. Çünkü bunlar besin değeri, duyuşsal özellikler ve sindirilebilirlik açısından üstün özelliklere sahiptir.

**Yukarıdaki numaralanmış cümlelerin anlamlı bir bütün oluşturması için hangilerinin birbiriyle yer değiştirmesi gerekir?**

- A) I. ile II.      B) I. ile III.      C) II. ile V.  
D) III. ile V.      E) IV. ile V.

BENİM HOCAM BENİM BAŞARIM

19. Atasözleri, dilde yaratılan ve bir toplumun ortak belleğinin göstergesi olan söz dizimleridir. İnsanın kültürel belleğinin taşıyıcısı olmasıyla yüceltilen atasözleri, halkın sözü kabul edilir. Nesilden nesile aktarılan bu sözler, ders verici, öğretici ve uyarıcı işleve sahiptir. İnsanın sosyal çevresiyle ve toplumla olan ilişkisini konu edinen atasözleri, ----. Gündelik konuşmaya benzeyen fakat bu konuşmalar arasından seçme yapan tiyatro yazını, bir düşünceyi seyirciye aktarmanın kısa yolu olarak bu sözlerle başvurur. Antik Yunan'dan günümüz tiyatrosuna kadar izi sürülebilecek bu yaklaşımda, atasözleri aracılığıyla halka (seyirciye) seslenme, öğretici ya da ders verici olma gibi amaçlar hedeflenmektedir.

**Bu parçayı anlam bakımından tamamlayan en uygun sözler aşağıdakilerin hangisinde verilmiştir?**

- A) sözü araç olarak kullanan tiyatro sanatında da sıkça kullanılır  
B) tarihî ve etimolojik çalışmalar sonucunda elde edilmiş, derlenmiştir  
C) hemen her eserde kullanılması gereken dil unsurları olarak karşımıza çıkmaktadır  
D) bir insanın bilgi seviyesinin ve hayat görüşünün anlaşılmasında önemlidir  
E) konuşma etkinliklerinin zengin ve nitelikli olmasına katkıda bulunmaktadır

20. (I) Çocukların bir dili edinmeleri doğumdan önce ve sonra o dile maruz kalmaları ile gerçekleşir. Yaşamlarının birinci yılında bilişsel ve fiziksel nedenlerle dil sayılabilecek birimler üretmedikleri hâlde dilden tamamen bağımsız değildirler. (II) Çocuklar, bir yaş civarında anlamlı ilk sözcüklerini söylemeye başlarlar. (III) On sekiz ay civarında da 50 kadar sözcük kullanabilmektedirler. (IV) Bu sözcükler, türü açısından ad, eylem, belirteç gibi çeşitlilik göstermekle birlikte sözcük dağarcığında daha çok ad ve eylemlerin yer aldığı görülür. (V) Adlar çocuğun etrafında bulunan nesneleri adlandırmaya yarar. (VI) Çocuklarla yapılan ilk konuşmalar o anda gerçekleşen eylemler ve orada yer alan nesneler hakkında olduğu için doğal olarak adların ve eylemlerin edinimi önceliklidir.

**Bu parçadaki numaralanmış cümlelerin hangisinden sonra** "On sekiz aydan itibaren söz sayısı hızla bir artış görülür." **cümlesi getirilirse parçanın anlam akışında bozulmaz?**

- A) I. B) II. C) III. D) IV. E) V.

21. Romanı yazmadan kurguyu belirlerim. Hem de kılı kırk yararak... Öteki türlü kendimi güvende hissedemem. Ama bazen roman ilerledikçe kahramanlarımdan biri ya da birkaçı bana başkaldırabilir. Bazen onlarla uyuşurum. Bazen de bildiğim yoldan şaşmam. İçgüdülerim ve sezgilerim bu aşamada duruma el koyar.

**Bu sözler aşağıdaki sorulardan hangisine karşılık olarak söylenmiş olabilir?**

- A) Konu seçimleriniz tesadüfi olarak mı ortaya çıkıyor?  
B) Eserlerinizde olay örgüsünü yazdıkça mı geliştirirsiniz?  
C) İlk kitabınızı çıkarmayı ne zaman ve nasıl düşündünüz?  
D) Yazmak isteyen insanlara bu yolda nasıl ilerlenmesi gerektiği ile ilgili tavsiyeleriniz var mı?  
E) Sizi yazmaya özendiren ve yönlendiren şeyler nelerdir?

- 22.** Cumhuriyet Dönemi Türk şairleri, eski Türk şiir geleneğinden büyük ölçüde yararlanmışlardır. Bu da Türk kültür, sanat ve şiirinin bir bütünlük içinde devam ettiğini gösteriyor. Günümüz Türk şairlerinin, atalarının ruhuyla irtibat kurmaları, Türk edebiyatı için sevindirici bir durumdur. Çünkü edebiyat, gelenekten beslenerek devam eder; aksi durumlarda geriler.

**Bu parçada vurgulanmak istenen düşünce aşağıdakilerden hangisidir?**

- A) Her yazınsal ürün, yazarını kendi anlatı tarzına çağırır.
- B) Kültürel birikimin sağlanması için her alandan sanatçıya önemli görevler düşmektedir.
- C) Geleneğinden ve geçmişinden kopmuş edebiyat zayıflar.
- D) Bir ulusu tanımak için onların verdiği ürünlerle bakılması yeterlidir.
- E) Sanatsal faaliyetler tarihin her döneminde devamlılık göstermiştir.

- 23.** Türkiye’de uzun zamandır öykü alanında bir durgunluğun ve tekrarın yaşandığı tartışılıyor. Bunun en dikkat çekici nedenini kendi köklerinden ve yaşamın zenginliğinden kopmuş bir öykücülük anlayışının çeşitli biçimlerde abartılması ve genel ölçü hâline getirilmesi olarak ifade edebiliriz. Hâlbuki yaşamdan kopuk, yalnızca kurguya dayanan öykünün ömrü kısadır. Çünkü bu tür öykü, zengin ve şaşırtıcı bir malzemeyi bir kenara bırakarak daha başından kendi olanaklarının en görkemlisi ve sürekli olanıyla bağını koparmıştır. Bugün yaşanan, bunun bir sonucudur.

**Bu parçaya göre, günümüzde öykü alanındaki durgunluğun ortadan kalkması için aşağıdakilerden hangisi yapılmalıdır?**

- A) Öykülere konu olarak geleneksel öğeleri tercih eden bir anlayış geliştirmek
- B) Öykü türündeki kitapların nasıl yazılması gerektiği ile ilgili eğitim vermek
- C) Öykü türünde yeteneği olmayan sanatçıları bu sahadan uzak tutmak
- D) İnsanların öykü türünü sevmesini ve bu türe ilgi göstermesini sağlamak
- E) Salt hayalî unsurlardan oluşmayan, gerçeklerden de beslenen öyküler kaleme almak

**24. - 26. soruları aşağıdaki parçaya göre cevaplayınız.**

İmge; duyulur, hissedilir bir kaynaktan elde edilen tasarımlardır. İmgeler; anı, algı ve düşünce kaynaklıdır. Yağan yağmurun bizi geçmişteki bir olaya götürmesi, bir anı imgesi ile gerçekleştiren bir olay, bir kişi ya da eşyanın herhangi bir düşünceye sevk etmesi de düşünce imgelerini akla getirir. Tıpkı Necip Fazıl Kısakürek'e yağmurun, Yahya Kemal'e de ağır ağır giden bir geminin ölümü düşündürmesi gibi. Bu bağlamda bir sanatçının ve daha özelden bir şairin sanatındaki özü tespit edebilmek için genel olarak yaşadığı çağın üzerinde en çok durduğu imgelerle olan ilişkisini sorgulamamız gerekmektedir. Bir başka deyişle sanatçının dünya ile ilişkisindeki çatışma ve uyumların sonucu olan sanat eseri, bize göre imgeler vasıtasıyla kendini tanımlamamıza imkân tanır. Ancak belirtmek gerekir ki imgeler; tema, konu gibi diğer teknik analizlerden farklı olarak tarihsel bir süreç içerisinde çekip alınamaz.

**24. Bu parçada imgelerle ilgili;**

- I. farklı etkenler sonucunda ortaya çıktıkları,
- II. içinde geçtikleri eserlerin temeli hakkında bilgi sunabildikleri,
- III. birer tarihî belge niteliği taşıdıkları ve başvuru kaynağı oldukları

**durumlarından hangilerine değinilmiştir?**

- A) Yalnız I      B) Yalnız II      C) Yalnız III  
D) I. ve II.      E) II. ve III.

**25. Bu parçadan hareketle aşağıdakilerden hangisi bir anı imgesi örneğidir?**

- A) Sahafta görülen bir kitabın sınava yeterince çalışılmadığını akla getirmesi
- B) Bayramlaşmada karşılaşılan arkadaşın, ona verilen sözün tutulması gerektiğini akla getirmesi
- C) Duvara asılmış bir futbol takımı posterinin akşamki maçın zor geçeceğini akla getirmesi
- D) Bir oyun parkının, çocuklarını çok ihmal ettiğini akla getirmesi
- E) Metroda duyulan bir şarkının, kendisine yapılan evlilik teklifini akla getirmesi

**26. Bu parçanın anlatımında aşağıdakilerden hangisi yoktur?**

- A) Benzetme      B) Örnekleme  
C) Karşılaştırma      D) Tanımlama  
E) Tanık gösterme

**27. - 30. soruları aşağıdaki  
bilgilere göre cevaplayınız.**

Eda, Ediz, Elif, Ersin isimli dört kişinin bir marketten aldıkları ürünler ve kasada bekledikleri sıra ile ilgili aşağıdaki bilgiler biliniyor.

- Marketten üç ekmek, iki süt, bir çikolata, bir su, iki paket deterjan alınmıştır.
- Herkes en az bir ürün almış ve hiç kimse aynı üründen birden fazla almamıştır.
- En az sayıda ürün alan kişi ekmek, en çok sayıda ürün alan kişi deterjan almamıştır.
- Ediz ve Elif'in aldıkları ürünlerin hepsi aynıdır.
- Kasada birinci sıradaki kişi süt almamıştır.
- Kasada dördüncü sıradaki kişi su almıştır.
- Ediz ile Elif kasada arka arkaya değildir.

**27. Buna göre, aşağıdakilerden hangisi kesinlikle doğrudur?**

- A) Eda, süt almıştır.
- B) Ersin, ekmek almıştır.
- C) Elif, deterjan almıştır.
- D) Ersin, su almıştır.
- E) Ediz, süt almıştır.

**28. Buna göre, aşağıdakilerden hangisi kesinlikle yanlıştır?**

- A) Elif, kasada birinci sıradadır.
- B) Ediz, kasada üçüncü sıradadır.
- C) Ersin, kasada dördüncü sıradadır.
- D) Eda, kasada üçüncü sıradadır.
- E) Eda, kasada ikinci sıradadır.

**29. Ersin'in çikolata aldığı bilgisi verilirse aşağıdakilerden hangisi kesinlikle doğru olur?**

- A) Ersin, en az sayıda ürün almıştır.
- B) Eda, deterjan almıştır.
- C) Ediz, üç adet ürün almıştır.
- D) Elif, süt almıştır.
- E) Eda, yalnızca bir ürün almıştır.

**30. Kasada ikinci sırada Eda'nın alışveriş yaptığı bilgisi verilirse aşağıdakilerden hangisi kesinlikle yanlıştır?**

- A) Ersin kasada Elif'ten öncedir.
- B) Kasada dördüncü sırada su alınmıştır.
- C) Ediz kasada Eda'dan sonradır.
- D) Kasada ikinci sırada süt alınmıştır.
- E) Kasada üçüncü sırada deterjan alınmıştır.

**31.  $\frac{\frac{2}{3}}{3} - \frac{2}{\frac{3}{2}}$   
işleminin sonucu kaçtır?**

- A)  $-\frac{8}{9}$
- B) -1
- C)  $-\frac{10}{9}$
- D)  $-\frac{11}{9}$
- E)  $-\frac{4}{3}$

32.  $x + \frac{8}{25}$  toplamı bir tam sayıya eşit olduğuna göre,  $x$  gerçel sayısının virgülden sonraki rakamları toplamı kaçtır?

A) 5 B) 6 C) 8 D) 12 E) 14

33.  $\frac{n!}{(n-3)!} + \frac{(n-1)!}{(6-2n)!}$  işleminin sonucu kaçtır?

A) 7 B) 8 C) 9 D) 10 E) 11

34.  $x \neq y$  olmak üzere,

$x + y \cdot (y - x) + (x - y) \cdot x - y = 0$  olduğuna göre,  $(x - y)$  farkı kaçtır?

A) -2 B) -1 C) 0 D) 1 E) 2

35.  $x$  gerçel sayısı için,

$|x - 2| \cdot |2x + 4| = 10$  olduğuna göre,  $x^2$  kaçtır?

A) 6 B) 7 C) 8 D) 9 E) 10

36.  $x$  sayısı 7 ile bölündüğünde kalan 2'dir.

Buna göre, aşağıdaki sayılardan hangisi 7 ile tam bölünür?

A)  $x + 5$  B)  $x + 4$  C)  $x + 2$   
D)  $x - 1$  E)  $x - 3$

37.  $x$  ve  $y$  gerçel sayıları için,

$$x + y < x < x \cdot y$$

eşitlikleri veriliyor.

Buna göre,

- I.  $x > 0$   
II.  $x - y > 0$   
III.  $\frac{x}{y} > 0$

İfadelerinden hangileri her zaman doğrudur?

A) Yalnız I B) Yalnız III C) I ve II  
D) I ve III E) II ve III

38.  $\frac{\sqrt{130 \cdot (1 + 2 + 3 + \dots + 64)}}{8}$

işleminin sonucu kaçtır?

A) 65 B) 64 C) 35 D) 26 E) 14

39.  $2^a = 6$

olduğuna göre,  $4^{2-a}$  ifadesinin değeri kaçtır?

A)  $\frac{3}{2}$  B)  $2\sqrt{2}$  C) 3  
D)  $3\sqrt{2}$  E)  $\frac{4}{9}$

40.  $a, b \in \mathbb{N}^+$  ve  $a^2 = 200 \cdot b$  olduğuna göre,  $a + b$  toplamı en az kaçtır?
- A) 16    B) 18    C) 20    D) 22    E) 24

41.  $(m4)$  ve  $(3n)$  iki basamaklı sayılardır.

$$\begin{array}{r} m4 \\ \times 3n \\ \hline \cdot \cdot \cdot \\ + \cdot \cdot \cdot \\ \hline 1728 \end{array}$$

Yukarıdaki çarpma işleminde  $m + n$  toplamı kaçtır?

- A) 5    B) 6    C) 7    D) 8    E) 9

42.  $a - b = b - c = 3$  olduğuna göre,  $a^2 + c^2 - 2b^2$  işleminin sonucu kaçtır?
- A) 36    B) 18    C) 9    D) 3    E) 1

43. Tam sayılar kümesi üzerinde tanımlı bir  $f$  fonksiyonu her  $n$  tam sayısı için,

$$f(n + 2) = 2f(n) + 4$$

$$f(2n) = 2f(n)$$

eşitlikleri sağlanıyor.

$f(0) = 0$  olduğuna göre,  $f(3)$  değeri kaçtır?

- A) 6    B) 8    C) 9    D) 12    E) 15

44.  $A = \{a, b, c, d, e, f\}$

kümesinin en çok 2 elemanlı kaç tane alt kümesi vardır?

- A) 22    B) 15    C) 10    D) 6    E) 5

45. İki tavlâ zarı birlikte atılıyor.

Üst yüze gelen sayıların çarpımının 4'e tam bölünebilme olasılığı kaçtır?

- A)  $\frac{1}{2}$     B)  $\frac{1}{3}$     C)  $\frac{1}{4}$     D)  $\frac{5}{12}$     E)  $\frac{4}{9}$

$$\frac{x+y}{x} = \frac{5}{2}$$

$$\frac{y}{y+z} = \frac{3}{4}$$

olduğuna göre,  $\frac{x}{z}$  oranı kaçtır?

- A) 2    B) 1    C)  $\frac{1}{2}$     D)  $\frac{2}{3}$     E)  $\frac{3}{5}$

47. Bugünkü yaşları oranı  $\frac{3}{5}$  olan iki kardeşin 8 yıl sonraki yaşları toplamı 72'dir.

**Buna göre, bu iki kardeşin yaşları farkı kaçtır?**

A) 18 B) 17 C) 16 D) 15 E) 14

48. %30 kârla satılmakta olan bir malın satış fiyatında 50 TL'lik indirim yapılmasına rağmen 10 TL kâr elde ediliyor.

**Buna göre, bu malın maliyeti kaç TL'dir?**

A) 160 B) 180 C) 200  
D) 220 E) 240

49. Fatih'in haftalığına %30, Barış'ın haftalığına %50 zam yapıldığında bu kişilerin aldıkları haftalıklar eşit oluyor.

**Bu kişilerin zamdan önceki haftalıkları arasındaki fark 60 TL olduğuna göre, Fatih'in zamdan sonraki haftalığı kaç TL olmuştur?**

A) 300 B) 420 C) 450  
D) 480 E) 500

50. A ve B adlı bilgisayar programları kullanıcılara sırasıyla ilk 5 ay ve ilk 4 ay ücretsiz olarak sunulmakta, sonraki her ay için sırasıyla 60 TL ve 75 TL olarak ücretlendirilmektedir. Ceyda, A programını kullanmaya başladıktan 3 ay sonra B programını da kullanmaya başlamış ve belirli bir süre sonra bu iki programı kullanmayı aynı anda bırakmıştır.

**Ceyda bu iki program için toplam 930 TL ödediğine göre, A programını kaç ay kullanmıştır?**

A) 7 B) 9 C) 11 D) 13 E) 15

51. Bir tel 6 eşit parçaya bölünebiliyor. Eğer bu tel 10 eşit parçaya bölünseydi her parça 3 cm daha kısa olacaktı.

**Buna göre, telin tamamı kaç cm'dir?**

A) 30 B) 35 C) 40 D) 45 E) 50

52. 215 tane hediye 20 öğrencinin her birine en az birer tane ve her biri farklı sayıda hediye alacak biçimde dağıtılacaktır.

**Buna göre, öğrencilerden biri en çok kaç tane hediye alabilir?**

A) 26 B) 25 C) 24 D) 23 E) 22

- 53.

1		C
	B	
A		3

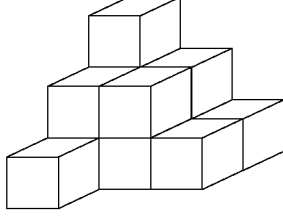
Yukarıda verilen 3 x 3'lük tablo 1, 2 ve 3 rakamları her satırda ve sütunda yalnız bir kere kullanılacak şekilde doldurulacaktır.

**Buna göre, A · B · C işleminin sonucu kaçtır?**

A) 4 B) 6 C) 8 D) 10 E) 12



54. - 55. soruları aşağıdaki  
şekle göre cevaplayınız.



Yukarıdaki cisim, birim küpler yan yana getirilerek oluşturulmuştur.

54. Tabandaki birim küpler kırmızıya, orta kısımdaki birim küpler maviye ve üst kısımdaki birim küpler sarıya boyanıyor.

**Bu boyalı cisim üstten bakıldığında oluşan görünüm aşağıdakilerden hangisidir?**

(K: kırmızı, M: mavi, S: sarı)

- A) 

S		
M	M	
K	K	K

 B) 

		S
	M	M
K	K	K

 C) 

K	K	K
M	M	
S		
- D) 

S	M	K
M	M	K
K		

 E) 

K	K	K
M	M	M
S		

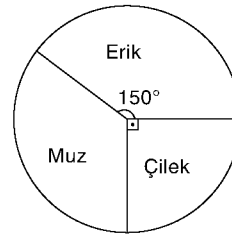
55. Bu küplerden en az kaç tanesinin yerinin değişmesiyle bir dikdörtgen prizma oluşturulur?

A) 2 B) 3 C) 4 D) 5 E) 6

56. - 57. soruları aşağıdaki  
bilgilere göre cevaplayınız.

Bir markette eriğin bir kilosunun fiyatı, çileğin bir kilosunun fiyatının 3 katına, muzun bir kilosunun fiyatının  $\frac{1}{2}$ 'sine eşittir.

5 kg erik, 6 kg çilek ve 4 kg muz satan bir market sahibinin bu satıştan elde ettiği kâr miktarının dağılımı aşağıdaki grafikte gösterilmiştir.



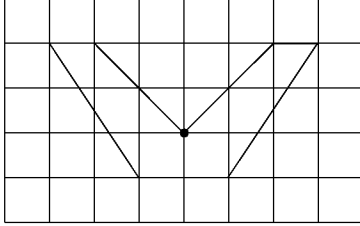
56. Bir kilogram çilekten elde edilen kâr bir kilogram erikten elde edilen kârdan yüzde kaç daha azdır?

A) 20 B) 25 C) 30 D) 35 E) 50

57. Market sahibi 5 kg eriği, 6 kg çileği aldığı fiyatın  $\frac{5}{3}$  katından 10 TL fazlaya aldığına göre, bu markette bir kilogram muzun satış fiyatı kaç TL'dir?

A) 2 B) 4 C) 6 D) 8 E) 12

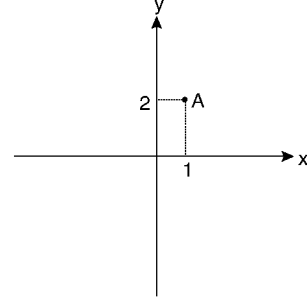
58. Bir matematik öğretmeni, alanları 1 birimkare olan karelerin yan yana ve alt alta dizilerek oluşturulduğu bir tabloda, aşağıda gösterildiği gibi bazı kısımları boyayarak "V" harfini oluşturmuştur.



Buna göre, boyalı V harfinin alanı kaç birimkaredir?

- A) 6 B) 8 C) 12 D) 14 E) 16

- 60.

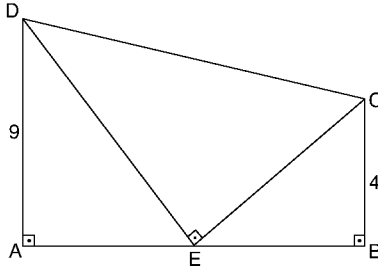


Dik koordinat sisteminde gösterilen A noktasının x eksenine göre simetriği B ve y eksenine göre simetriği C'dir.

Buna göre, B ve C noktalarından geçen doğrunun eğimi kaçtır?

- A) -2 B) -1 C) 0 D) 1 E) 2

- 59.



ABCD dik yamuk

$[DE] \perp [EC]$

$|AD| = 9 \text{ cm}$

$|CB| = 4 \text{ cm}$

$|EB| = |AE| = x$

olduğuna göre, x kaçtır?

- A) 3 B) 6 C) 8 D) 12 E) 18

BENİM HOCAM BENİM BAŞARIM

Kpss Kaynak Arşivi - Kpss Doküman Arşivi  
<https://www.facebook.com/KpssKaynakArsivi>

GENEL YETENEK TESTİ BİTTİ.  
 GENEL KÜLTÜR TESTİNE GEÇİNİZ.

*Diğer sayfaya geçiniz.*

1. Doğu Roma İmparatorluğu ile 434'te Margos Antlaşması'nı yaparak bu devleti vergiye bağlayan Türk devleti aşağıdakilerden hangisidir?

- A) Asya Hun Devleti
- B) Kutluk Devleti
- C) Uygur Devleti
- D) Avar Hakanlığı
- E) Avrupa Hun Devleti

3. • Sivas merkezli olmak üzere Fırat Nehri'nden Sakarya'ya kadar Orta ve Kuzey Anadolu'da egemenlik kurmuşlardır.
- Niksar'daki Yağıbasan Medresesi ile Kayseri'deki Ulu Cami'yi inşa etmişlerdir.

**Özellikleri açıklanan Anadolu Türk beyliği aşağıdakilerden hangisidir?**

- A) Mengücekliler
- B) Danişmentliler
- C) Çaka Beyliği
- D) Çubukoğulları
- E) Artuklular

2. Eserinde dört önemli esası "Kün-Toğdı" ve "Öğdilmiş" gibi adlarla kendi aralarında konuşuran, devletin halka, halkın da devlete karşı görevlerini anlatan Türk - İslam yazarı aşağıdakilerden hangisidir?

- A) Yusuf Has Hacıp
- B) Kaşgarlı Mahmut
- C) Ömer Hayyam
- D) Ali Şir Nevai
- E) Nizamülmülk

4. Ankara Savaşı'ndan sonra başlayan Fetret Devri'ne son vererek tahta çıkan Osmanlı hükümdarı aşağıdakilerden hangisidir?

- A) I. Murat
- B) II. Murat
- C) I. Mehmet
- D) I. Bayezit
- E) II. Mehmet

5. Osmanlı Devleti'nde at, katır ve deve gibi yük hayvanlarına sahip olup, kadı huzurunda bir sözleşme yaparak tüccarların mallarını taşıyanlar aşağıdakilerden hangisiyle adlandırılmıştır?

- A) Bezirgan                      B) Ehl-i hibre  
C) Mekkârî taifesi              D) Ehl-i hîrfet  
E) Ahiler

7. XVIII. yüzyılda yapılan ıslahatlar ve bu ıslahatları gerçekleştiren devlet adamlarıyla ilgili aşağıdaki eşleştirmelerden hangisi yanlıştır?

	Islahat	Devlet adamı
A)	Sûrat Topçuları Ocağı	III. Mustafa
B)	Hendesehane	I. Mahmut
C)	İtfaiye Teşkilatı	III. Ahmet
D)	Meclis-i Meşveret	III. Selim
E)	İlk daimî elçilikler	I. Abdülhamit

6. Osmanlı Devleti'nde kadı yetiştirmek ve eğitim vermek için;

- I. Medresetü'l-Kudat,  
II. Darü'l-Kurra,  
III. Medresetü'l-Vaizin

kurumlarından hangileri kurulmuştur?

- A) Yalnız I                      B) Yalnız II                      C) Yalnız III  
D) I ve III                      E) II ve III

8. Osmanlı Devleti XVIII. yüzyılda hazinenin artan nakit ihtiyacını karşılamak adına aşağıdakilerden hangisine başvurmamıştır?

- A) İltizam sisteminin yaygınlaştırılması  
B) Esham uygulamasına geçilmesi  
C) Âyanların haklarının genişletilmesi  
D) Malikâne sisteminin geliştirilmesi  
E) İç borçlanmaya gidilmesi

9. Süleyman Hüsnü Paşa'nın Şipka önlerinde, Gazi Osman Paşa'nın ise Plevne önlerinde başarılı savunmalar yaptığı savaş aşağıdakilerden hangisidir?

- A) Kırım Savaşı
- B) Trablusgarp Savaşı
- C) 93 Harbi
- D) Dömeke Meydan Savaşı
- E) 1828 - 1829 Osmanlı - Rus Savaşı

11. Medeniyetin Osmanlı ülkesinde ilerlediğini göstermek, Rusya'nın beslediği emeller konusunda Avrupa'nın dikkatini çekmek ve Avrupa ülkelerinden para yardımı sağlamak adına 1867'de yurt dışı gezisine çıkan Osmanlı padişahı aşağıdakilerden hangisidir?

- A) II. Mahmut
- B) Abdülmecit
- C) Abdülaziz
- D) V. Murat
- E) II. Abdülhamit

BENİM HOCAM BENİM BAŞARIM

10. Avrupa'nın önemli devletleri XIX. yüzyıl başlarında İhtilal Savaşlarından sonra Viyana Kongresi'nde bir araya gelmiştir. Kongrede uluşçu ayaklanmaların önlenmesi ve Avrupa'da statükonun korunması kararlaştırılmıştır. Viyana Kongresi'yle Avrupalı devletler "Restorasyon" olarak adlandırılan bir dönemi başlatmışlardır.

**Buna göre, Restorasyon Dönemi aşağıdakilerden hangisiyle son bulmuştur?**

- A) Navarin Baskını'yla
- B) Napolyon'un Mısır'ı işgal etmesiyle
- C) Paris Antlaşması'nın imzalanmasıyla
- D) Tanzimat Fermanı'nın ilan edilmesiyle
- E) Bulgaristan'ın bağımsız olmasıyla

12. Fransız İhtilali'nin etkisiyle Osmanlı Devleti'nde meydana gelen gelişmelerden biri olarak aşağıdakilerden hangisi gösterilemez?

- A) Sened-i İttifak'ın imzalanması
- B) Islahat Fermanı'nın yayımlanması
- C) Meşrutiyet'in ilan edilmesi
- D) Kanunuesasi'nin ilan edilmesi
- E) Tanzimat Fermanı'nın yayınlanması

**13. Balkan Savaşları sırasında meydana gelen aşağıdaki gelişmelerden hangisi Osmanlılık düşüncesinin gerçekleşemeyeceğini göstermektedir?**

- A) Babıali Baskını'nın gerçekleşmesi
- B) Osmanlı Devleti'nin Midye - Enez hattına çekilmesi
- C) Amavutluk'un bağımsızlığını ilan etmesi
- D) Balkan devletlerinin kendi aralarında savaşmaları
- E) Savaş sırasında Osmanlı subaylarının siyasete karışması

**15. Amasya Görüşmelerine katılan ve TBMM'nin ilk dışişleri bakanı sıfatıyla Londra Konferansı'na gönderilen ve Türk heyetine başkanlık yapan devlet adamı aşağıdakilerden hangisidir?**

- A) Rauf Orbay
- B) Refet Bele
- C) Bekir Sami Kunduh
- D) Ali Fuat Cebesoy
- E) Kâzım Karabekir

**14. Osmanlı Devleti'ne ait Yavuz ve Midilli zırhlılarının, Rusya'nın;**

- I. Odessa,
- II. Soçi,
- III. Sivastopol

**limanlarından hangilerine saldırması, Osmanlı Devleti'nin Birinci Dünya Savaşı'na girmesine neden olmuştur?**

- A) Yalnız I
- B) Yalnız II
- C) I ve II
- D) I ve III
- E) II ve III

**16. Son Osmanlı Mebusan Meclisinin kabul ettiği Misakımillî'de aşağıdaki konulardan hangisiyle ilgili kararlar alınmamıştır?**

- A) Millî sınırlar
- B) Boğazlar
- C) Azınlık hakları
- D) Kapitülasyonlar
- E) Ulusal egemenlik

BENİM HOCAM BENİM BAŞARIM

**17. 12 Mart 1921'de çıkarılan bir kanunla kabul edilen İstiklal Marşı, ilk olarak aşağıdaki gazetelerden hangisinde yer almıştır?**

- A) Açıksoz B) Alemdar  
C) Vakit D) İkdam  
E) İleri

**19. • Şevket Süreyya Aydemir tarafından kaleme alınmıştır.**

- Biyografi niteliğindeki bu eserde Mustafa Kemal'in hayatı, eserleri, Türk ve dünya tarihi üzerindeki etkileri anlatılmaktadır.

**Yukarıda özellikleri verilen eser aşağıdakilerden hangisidir?**

- A) *Tek Adam*  
B) *Yaban*  
C) *Ateşten Gömlek*  
D) *Çankaya*  
E) *Türk'ün Ateşle İmtihanı*

**18. I. TBMM Dönemi'nde imzalanan aşağıdaki antlaşmalardan hangisiyle ülkemizin doğu sınırları kesinlik kazanmıştır?**

- A) Gümrü B) Moskova  
C) Kars D) Batum  
E) Ankara

**20. Atatürk Dönemi'nde meydana gelen;**

- I. Serbest Cumhuriyet Fırkasının kurulması,  
II. Atatürk'e İzmir'de suikast girişiminde bulunulması,  
III. Şeyh Said Ayaklanması'nın çıkması

**gelişmelerinin kronolojik açıdan doğru sıralanışı aşağıdakilerden hangisidir?**

- A) I - II - III B) I - III - II C) II - I - III  
D) III - I - II E) III - II - I

21. Atatürk Dönemi'nde iktisadi politikalar doğrultusunda millî bankaların açılmasına ve bu bankaların üretimin her dalına kredi sağlamasına özen gösterilmiştir.

**Buna göre, aşağıdakilerden hangisi Atatürk Dönemi'nde açılan bankalar arasında gösterilemez?**

- A) Sanayi ve Maadin Bankası
- B) Halk Bankası
- C) İş Bankası
- D) Etibank
- E) Vakıfbank

23. Atatürk Dönemi'nde yapılan yeniliklerin ve inkılapların sürekliliğinin sağlanması aşağıdaki Atatürk ilkelerinden hangisi ile gerçekleştirilmiştir?

- A) Halkçılık
- B) Laiklik
- C) Devletçilik
- D) İnkılapçılık
- E) Milliyetçilik

BENİM HOCAM BENİM BAŞARIM

22. Mustafa Kemal Atatürk bir konuşmasında, "Ulusal egemenlik öyle bir nurdur ki, onun karşısında zincirler erir, taç ve tahtlar yanar, mahvolur." sözünü söylemiştir.

**Buna göre, aşağıdakilerden hangisinin bu sözle bağdaştığı savunulamaz?**

- A) Çok partili hayat denemelerinde bulunulması
- B) Seçimlerin belirli aralıklarla yenilenmesi
- C) Seçmen yaşının 18'e düşürülmesi
- D) Bir dönem tek parti idaresinin sürdürülmesi
- E) Kadınlara seçme ve seçilme hakkının verilmesi

24. Montrö Boğazlar Sözleşmesi'nin imzalanmasında;

- I. Japonya'nın Milletler Cemiyetinden çıkması ve Mançurya'yı işgal etmesi,
- II. Almanya ve İtalya'da ırkçı ve faşist yönetimlerin iktidara gelmesi,
- III. Türkiye, Irak, İran ve Afganistan arasında Sadabad Pakti'nin kurulması

**gelişmelerinden hangileri etkili olmuştur?**

- A) Yalnız I
- B) Yalnız III
- C) I ve II
- D) I ve III
- E) I, II ve III



**25. Türkiye'nin, "Kara Perşembe" olarak anılan 1929 Dünya Ekonomik Krizi'ne karşı aşağıdaki önlemlerden hangisini aldığı savunulamaz?**

- A) Ekonomide devletçilik ilkesinin uygulanması
- B) Millî İktisat ve Tasarruf Cemiyetinin kurulması
- C) Yerli malının kullanımına yönelik kampanyaların düzenlenmesi
- D) Birinci Beş Yıllık Kalkınma Planı'nın yürürlüğe konulması
- E) Teşvik-i Sanayi Kanunu'nun çıkarılması

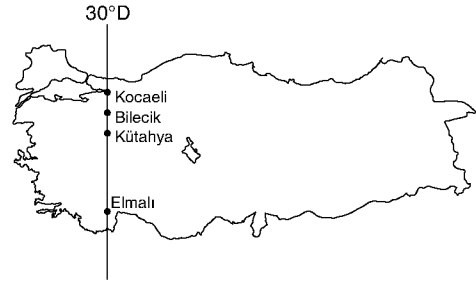
**27. • 1959'da Filistin Kurtuluş Örgütü'nün en büyük grubu olan El Fetih Örgütü'nü kurmuştur.**

- Uzun süre silahlı mücadeleleri yönetmiş ve 1996'da halkoyuyla Filistin Özerk Yönetiminin başkanlığına seçilmiştir.

**Yukarıda özellikleri verilen Filistin davasının önemli ismi aşağıdakilerden hangisidir?**

- A) İzak Rabin
- B) Yaser Arafat
- C) Mahmut Abbas
- D) Enver Sedat
- E) Ramiz Alia

**28. Aşağıdaki haritada aynı meridyen üzerinde yer alan bazı merkezlerin yerleri gösterilmiştir.**



**Yerleri gösterilen merkezlerin aynı meridyen üzerinde yer alması;**

- I. Yerel saatleri aynıdır.
  - II. Güneş'in ufuk düzlemi üzerinde görüldüğü süre aynıdır.
  - III. Güneş'in tepe noktasına ulaştığı an aynıdır.
  - IV. Çizgisel hızları birbirinden farklıdır.
- özelliklerinden hangilerini ortaya çıkarmıştır?**

- A) I ve II
- B) I ve III
- C) I ve IV
- D) II ve III
- E) III ve IV

**26. Sovyetler Birliği'nin oluşturduğu Doğu Bloku'ndan ayrılan ilk ülke aşağıdakilerden hangisidir?**

- A) Polonya
- B) Bulgaristan
- C) Yugoslavya
- D) Çin
- E) Çekoslovakya

BENİM HOCAM BENİM BAŞARIM

29. Türkiye’de yer alan aşağıdaki yer şekillerinden hangisinin oluşmasında volkanik faaliyetlerin etkisi daha fazladır?

- A) Hazar Gölü - Elâzığ
- B) Meke Tuzlası - Konya
- C) Küre (İsfendiyar) Dağları - Kastamonu
- D) Kapıdağ Yarımadası - Balıkesir
- E) Şile falezleri - İstanbul

30. Türkiye’de üretim faaliyetlerinin dağılışımda ham madde üretimi ve özellikleri çoğunlukla belirleyici olur.

**Aşağıdakilerden hangisi bu duruma örnek olarak gösterilemez?**

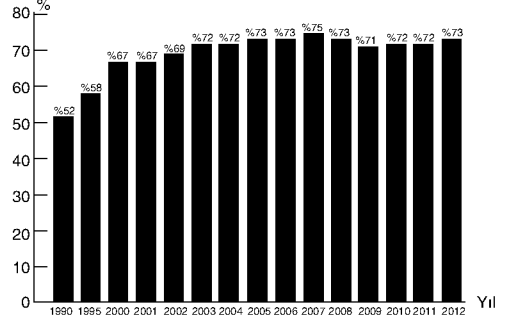
- A) Deri sanayi - İstanbul, Bolu, İzmir
- B) Halı dokumacılığı - Isparta, Bünyan
- C) Seramik ürünleri - Bozüyük, Çanakkale
- D) Orman ürünleri - Dalaman, Taşucu
- E) Konserve ürünleri - Bursa, Çanakkale

31. • Batman  
• Elâzığ  
• Zonguldak

**Aşağıdakilerden hangisi yukarıda verilen illerin ortak özelliklerinden biridir?**

- A) Yer şekillerinin sade olması
- B) Kıyı kesimlerde yer almaları
- C) Büyükşehir olarak yönetilmeleri
- D) Kırsal nüfus oranlarının %50’nin üzerinde olması
- E) Gelişmelerinde madencilik faaliyetlerinin etkili olması

32. Aşağıdaki grafikte Türkiye’nin enerji kaynakları ihtiyacının ithalat yoluyla karşılanma oranları gösterilmiştir.



**Buna göre, yalnızca grafik incelenirse aşağıdaki yargılardan hangisine ulaşılabilir?**

- A) Üretilen enerjinin büyük kısmı ülkenin batı kesimlerinde kullanılmaktadır.
- B) Yıllar geçtikçe yerli kaynakların kullanımı artmıştır.
- C) Yenilenebilir enerji kaynaklarının kullanım oranları artmaktadır.
- D) Türkiye, enerji kaynakları bakımından dışa bağımlı bir ülkedir.
- E) Enerji üretiminde yeni kaynak arayışları söz konusudur.

33. Türkiye, kullanım alanı son derece geniş olan bor yataklarının dünya rezervlerinin yaklaşık %72’sine sahiptir.

**Aşağıdakilerden hangisi bor madeninin kullanım alanlarından biri değildir?**

- A) Petrol ve doğal gaz aramalarında kullanılan sondaj çamuru üretimi
- B) Isıya karşı dayanıklı cam üretimi
- C) Sabun ve deterjan gibi çeşitli temizlik ürünlerinin üretimi
- D) İnşaat sektöründe depreme dayanıklı bina yapımı
- E) Otomotivler için hava yastıkları ve balata üretimi

**34. Türkiye'nin aşağıda verilen iklim özelliklerinden hangisinin ortaya çıkmasında mutlak konumu etkili olmamıştır?**

- A) Kış aylarında cephe yağışlarının etkili olması
- B) Dağların güney yamaçlarının bakı etkisiyle daha fazla ısınması
- C) Karadeniz kıyılarında sıcaklığın Akdeniz kıyılarından daha düşük olması
- D) Dağların güney yamaçlarında orman üst sınırının daha yüksek olması
- E) Batıdan doğuya doğru gidildikçe sıcaklığın azalması

**36. Türkiye'de iklim, bitki örtüsü ve arazi özellikleri çeşitliliğinin fazla olması toprak türü çeşitliliğini de artırmıştır.**

**Aşağıdakilerden hangisi Türkiye'de yaygın şekilde görülen toprak türlerinden biri değildir?**

- A) Kahverengi step toprakları
- B) Kahverengi orman toprakları
- C) Laterit topraklar
- D) Kolüvyal topraklar
- E) Çernozyom toprakları

**35. Türkiye'nin batı kesimlerinde yer alan Ergene, Meriç ve Gediz gibi akarsular üzerinde büyük baraj gölleri kurulmazken doğusunda yer alan Çoruh, Fırat ve Dicle gibi akarsular üzerinde büyük baraj gölleri inşa edilmesi, bölgelerin;**

- I. doğal bitki örtüsü,
  - II. ortalama yükselti ve eğim,
  - III. akarsuyun akış hızı,
  - IV. nüfus yoğunluğu
- özelliklerinden hangilerinin farklı olmasıyla açıklanabilir?**

- A) Yalnız II
- B) I ve II
- C) I ve III
- D) II ve III
- E) II ve IV

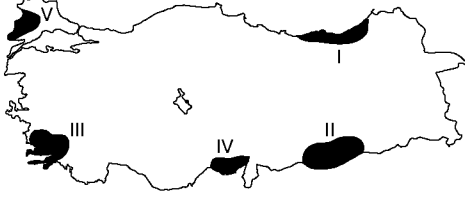
**37. I. Kasırga**

- II. Heyelan
- III. Sel ve taşkın
- IV. Tektonik deprem

**Türkiye'de yukarıda verilen doğal afetlerden hangileri yaşanmaz?**

- A) Yalnız I
- B) I ve II
- C) I ve III
- D) I ve IV
- E) III ve IV

38.



Yer şekilleri özellikleri göz önüne alınırsa yukarıdaki haritada yerleri gösterilen bölgelerden hangilerinde çiftlik yerleşmelerinin yaygın olduğu söylenemez?

- A) I ve II      B) I ve III      C) I ve V  
D) II ve IV      E) III ve V

39. Akdeniz ve Ege kıyılarında aşağıdaki tarım ürünlerinden hangisinin yaygın şekilde yetiştirilmesi kışların ılık geçtiğini göstermektedir?

- A) Üzüm      B) Zeytin  
C) Pamuk      D) Yer fıstığı  
E) Soya fasulyesi

40. Türkiye’de besi ve ahır hayvancılığının gelişmesiyle aşağıdaki durumlardan hangisinin yaşanması beklenmez?

- A) Hayvan başına alınan verim artar.  
B) Doğal koşullara bağlı üretim azalır.  
C) Üretimde yıllara göre görülen dalgalanmalar azalır.  
D) Hayvancılığın ülke ekonomisindeki payı artar.  
E) Hayvancılık faaliyetleriyle geçimini sağlayan kişi sayısı artar.

41. • İhraç ürünleri içerisinde madencilik sektörünün payı diğer sektörlerden fazladır.  
• Dış ticaret açığının kapanmasında en etkili olan faaliyet madenciliktir.  
• Türkiye’de az da olsa rezervi olmayan maden türü yoktur.  
• Madencilik faaliyetleri için gerekli olan yatırımların hepsi devlet eliyle gerçekleştirilir.  
• Türkiye’nin madencilik ürünlerinin yarısını mermer ve doğal taşlar oluşturur.

Buna göre, Türkiye’de madencilik faaliyetleri hakkında verilen yukarıdaki bilgilerden kaç tanesi doğrudur?

- A) 1      B) 2      C) 3      D) 4      E) 5

42. Sanayinin gelişmesinin etkilerinden biri de hava kirliliğinin yaygın şekilde yaşanmasıdır.

**Buna göre, aşağıdaki merkezlerden hangisinde daha fazla hava kirliliği sorunu yaşanmaktadır?**

- A) Artvin B) Iğdır  
C) Kocaeli D) Siirt  
E) Gümüşhane

44. Aşağıdakilerden hangisi Türkiye'deki inanç turizmi merkezlerinden biri değildir?

- A) Konya'daki Mevlâna Türbesi  
B) Diyarbakır Surları ve Hevsel Bahçeleri  
C) Selçuk'taki (İzmir) Meryem Ana Kilisesi  
D) Hatay'daki St. Pierre Kilisesi  
E) Van'daki Akdamar Kilisesi

BENİM HOCAM BENİM BAŞARIM

43. Türkiye'de iç ticaret faaliyetlerinin gelişmiş olduğu merkezler hakkında aşağıdakilerden hangisi söylenemez?

- A) Ulaşım imkânları gelişmiştir.  
B) Üretim faaliyetleri gelişmiştir.  
C) Sermaye ve yatırımlar fazladır.  
D) Tarım ve hayvancılık ön plandadır.  
E) Yeni yatırım ve iş imkânları vardır.

45. Ege Bölgesi'nde enerji üretiminde;

- I. güneş,  
II. gelgit,  
III. hidroelektrik,  
IV. jeotermal

**gibi kaynaklardan hangileri yaygın şekilde kullanılamaz?**

- A) Yalnız III B) I ve II C) I ve III  
D) II ve III E) III ve IV

**46. Eşya üzerinde doğrudan, mutlak egemenlik yetkisi veren, herkese karşı ileri sürülebilen haklara ne ad verilir?**

- A) Ayni hak
- B) Miras hakkı
- C) Telif hakkı
- D) Nispi hak
- E) Zilyet

**48. Dernek ve kooperatif kurmak için en az kaç kişi gerekir?**

- A) 1
- B) 3
- C) 5
- D) 7
- E) 10

**49. 1982 Anayasası'na göre, Türkiye Büyük Millet Meclisi kaç üyeden oluşur?**

- A) 400
- B) 450
- C) 500
- D) 550
- E) 600

**47. Bir gerçek kişinin doğumu ve soybağıyla ilgili kayıtları içeren kütük aşağıdakilerden hangisidir?**

- A) Ölüm kütüğü
- B) Doğum kütüğü
- C) Evlenme kütüğü
- D) Boşanma kütüğü
- E) Yer değiştirme kütüğü

**50. 1982 Anayasası'nda yapılan 2017 Anayasa değişikliği ile Türkiye Büyük Millet Meclisi seçimleri kaç yılda bir yapılır?**

- A) 2
- B) 4
- C) 5
- D) 7
- E) 10

BENİM HOCAM BENİM BAŞARIM

**51. 1982 Anayasası'na göre, aşağıdakilerden hangisi milletvekili seçilme yeterlilikleri arasında yer almaz?**

- A) 18 yaşını doldurmuş olmak
- B) Askerlikle ilişkisi bulunmamak
- C) Türk vatandaşı olmak
- D) En az bir dönem milletvekilliği yapmış olmak
- E) En az ilkokul mezunu olmak

**54. “Cumhurbaşkanı, kanunların uygulanmasını sağlamak üzere ve bunlara aykırı olmamak şartıyla yönetmelikler çıkarabilir.” hükmü aşağıdaki düzenlemenin hangisi ile kabul edilmiştir?**

- A) 1982 Anayasası ile
- B) 1982 Anayasası'nda yapılan 2010 değişikliği ile
- C) 1982 Anayasası'nda yapılan 2016 değişikliği ile
- D) 1982 Anayasası'nda yapılan 2017 Anayasa değişikliği ile
- E) 1982 Anayasası'nda yapılan 2018 değişikliği ile

**52. 1982 Anayasası'nda yapılan 2017 Anayasa değişikliği ile aşağıdaki yüksek mahkemelerden hangisi kaldırılmıştır?**

- A) Anayasa Mahkemesi
- B) Danıştay
- C) Yargıtay
- D) Askerî Yargıtay
- E) Uyuşmazlık Mahkemesi

**53. 1982 Anayasası'nda yapılan 2017 Anayasa değişikliği ile Hâkimler ve Savcılar Kurulu kaç üyeden oluşur?**

- A) 22 asıl, 12 yedek
- B) 13 üye
- C) 5 asıl, 7 yedek
- D) 7 asıl, 4 yedek
- E) 30 üye

**55. Osman Hamdi Bey tarafından yapılan “Kaplumbağa Terbiyecisi” isimli ünlü tablo hangi cami içerisinde resmedilmiştir?**

- A) Yeşil Camii - Bursa
- B) Hacı Bayram Veli Camii - Ankara
- C) Selimiye Camii - Edirne
- D) Süleymaniye Camii - İstanbul
- E) Çifte Minareli Camii - Erzurum

**56. Aşağıdaki ülkelerden hangisi BM Güvenlik Konseyi "2020 – 2021 Dönemi Geçici Üyeleri" arasında yer almaz?**

- A) Estonya                      B) Nijerya  
C) Tunus                         D) Vietnam  
E) Sudan

**59. Birleşmiş Milletler bünyesinde ve ona bağlı olarak faaliyet gösteren Uluslararası Çalışma Örgütü'nün kısaltması aşağıdakilerden hangisidir?**

- A) UNESCO  
B) WHO  
C) ILO  
D) UNIDO  
E) FAO

**57. Avrupa Spor Kentleri Federasyonu (ACES Europe) aşağıdaki şehirlerimizden hangisini "2020 Avrupa Spor Kenti" olarak belirlemiştir?**

- A) Bolu                      B) Kırıkkale                      C) Çorum  
D) Hekimhan                      E) Çorlu

**60. 2020 İslam Dünyası Gençlik Başkenti aşağıdaki şehirlerden hangisi olmuştur?**

- A) Mekke                      B) Tahran                      C) Bakü  
D) Dakka                      E) Hive

**58. *Mecalis-i Seba* adlı eser, aşağıdaki mutasavvıflardan hangisine aittir?**

- A) Şems-i Tebrizi  
B) Yunus Emre  
C) Hacı Bektaş  
D) Mevlâna  
E) Hoca Ahmet Yesevi

**TEST BİTTİ.**

**CEVAPLARINIZI KONTROL EDİNİZ.**



1. Öncülde verilen parçada şiirlerin okurlar tarafından çok sevildiği ancak onlar için zorlayıcı bir tür olduğuna yönelik değerlendirmelerde bulunmaktadır. Bu değerlendirmeler sırasında “en çapraşık sokak” sözü ile de şiire yönelik bir benzetme yapılmıştır. Parçada geçen “...şairin söz oyunları, başvurduğu imgeler şiirlerin tam olarak anlaşılmasının önünde her zaman engel olmuştur... Her defasında sonuca ulaşmak için çıkılan bir yol ancak hepsinde de karşılaşılan henüz tamamlanmamış bir yol...” sözlerini göz önünde bulundurduğumuzda bu benzetme ile yani “en çapraşık sokak” sözü ile şiirin anlaşılması ya da çözülmesinin güç ve muğlak olduğunun vurgulandığını görüyoruz.

CEVAP: C

2. Öncülde verilen parçada geçen sözleri, kullanıldıkları bağlam çerçevesinde incelediğimizde I numaralı “anlaşılmasını sağlar” sözü ile II numaralı “açığa çıkarmak” sözünün aynı anlama geldiğini görüyoruz. Çünkü II numaralı “açığa çıkarmak” sözü bir deyimdir ve bu sözün anlamı “ortaya çıkarmak, gözler önüne sermek, anlaşılır duruma getirmek” biçimindedir.

CEVAP: A

3. Cümle oluşturma sorularında, cümlenin kurallı ve anlamlı olması istendiğinden öncelikle yargı değeri taşıyan (yüklem olan) söz öbeği tespit edilir ve bu öbek sona çekilir. Daha sonra diğer söz öbekleri arasındaki anlamsal ve dil bilgisel ilişkiler göz önünde bulundurularak sözler sıralanır. Buna göre öncülde verilen numaralanmış sözleri incelediğimizde yargı değeri taşıyan yani yüklem olabilecek ifadenin III numaralı “en önemli ve doğal göstergelerinden biri” sözleri olduğunu görüyoruz. Bu sözü en sona çekip dil bilgisi kuralları ve anlam akışı çerçevesinde söz öbeklerini sıraladığımızda cümle şu şekilde ortaya çıkmaktadır:

(IV) Giyim kuşam bir toplumun içinde yaşadığı (II) coğrafi koşulların, ekonomik ve kültürel (V) özelliklerinin, sahip olduğu değer (I) yargılarının, gelenek ve göreneklerinin (III) en önemli ve doğal göstergelerinden biri.

Buna göre, sıralama IV-II-V-I-III biçimindedir ve baştan üçüncü söz, V numaralı sözdür.

CEVAP: E

4. Öncülde verilen numaralanmış sözleri incelediğimizde yargı değeri taşıyan yani yüklem olabilecek ifadelerin I ve IV numaralı sözler olduğunu görüyoruz. Soruda da bizden en sonda yer alacak sözleri bulmamız istenmektedir. Numaralanmış sözleri dil bilgisi kuralları ve anlam akışı çerçevesinde sıraladığımızda cümle şu şekilde ortaya çıkmaktadır:

(II) Topluma yönelen şair, içinde bulunduğu (V) sosyal, siyasi olay ya da durumlarla (I) yüzleşmeyi seviyor demektir (III) ve toplumsal gerçekliği temel alan (VI) bu şair anlayışı, bizde ağırlıklı olarak (IV) Nazım Hikmet'le başlamıştır.

Buna göre sıralama II-V-I-III-VI-IV biçimindedir ve sonuncu söz, IV numaralı sözdür.

CEVAP: C

5. Cümle tamamlama sorularında cümlelerin anlam akışının doğru sezilmesi ve cümlede geçen anahtar kelimelerin iyi okunması gerekir. Ayrıca cümlelerin anlamsal, dil bilgisel akışı da göz önünde bulundurulmalıdır. Buna göre, öncülde geçen "sanatçı", "içinde", "ve büyüdüğü toplumu" sözlerinden hareketle ilk boşluğa gelecek en uygun sözcüğün "doğduğu"; "eserlerine", "gerektiğini" sözcüklerinden hareketle ikinci boşluğa gelecek en uygun sözcüğün "yansıması" olduğunu görüyoruz. Üçüncü boşluktan sonra geçen olumsuz anlam kapsamlı "dikkat çekmeyeceğini bilir" sözlerinden hareketle de bu boşluğa gelecek en uygun sözün, düşüncenin yönünü değiştiren "aksi takdirde" ifadesi olduğunu görüyoruz. Bu durumda öncülde verilen cümlede geçen boşluklara sırasıyla "doğduğu-yansıması-aksi takdirde" sözleri getirilmelidir. Bu ifadeleri getirdikten sonra cümlelerin anlamca tamamlanmış biçimi şu şekildedir:

*Bir sanatçı; içinde doğduğu ve büyüdüğü toplumu eserlerine yansıması gerektiğini, aksi takdirde ortaya koyduklarının da kendinin de dikkat çekmeyeceğini bilir.*

CEVAP: C

6. Amaç; ulaşılmak istenen sonuç, maksat, gaye, hedef olarak tanımlanmaktadır. Amaç anlamı bulunan cümlelerde de ulaşılmak istenen hedef, gaye açıklanır. Amaç cümlelerinde genellikle "amacıyla, gayesiyle, -mak için, -a, diye" vb. ifadeler yer verilir. Öncülde verilen parçadaki numaralanmış cümleleri bu bilgiler doğrultusunda incelediğimizde III numaralı "Vücutlarına depoladıkları yağı ise deniz buzullarının çok küçüldüğü, besin bulmanın zorlaştığı yaz aylarında enerji ihtiyaçlarını **karşılama için** kullanıyorlar." cümlesinde bir amaç anlamı bulunduğu görüyoruz.

CEVAP: C

7. *Şiir ve Gerçeklik* adlı yapıtın konu edildiği öncüldeki parçanın I numaralı "Birinci baskısı 1986 yılında yapılan *Şiir ve Gerçeklik*, çeşitli konularla ilgili denemelerden oluşturulmuştur." cümlesinde yapıtın ilk kez yayımlanma tarihi ve içeriği hakkında bilgi verildiğinden A seçeneği; III numaralı "Sanatçı, kendi fikir ve tespitlerini eleştirel üsluyla açıklayarak mantık kuralları çerçevesinde sağlam bir zemine oturtmuştur." cümlesinde eserin dil ve anlatımına yönelik değerlendirme-lerde bulunulduğundan C seçeneği; IV numaralı "Bu sayede okuyucunun zihnini saydamlastırmıştır." cümlesinde önceki cümlede sözü edilen dil ve anlatım niteliklerinin okuyuculara yönelik sonucu açıklandığından D seçeneği; V numaralı "Sonuç olarak da alanında kaynak olan bir kitap ortaya çıkmıştır." cümlesinde yapıtın bir kaynak niteliği taşıdığı belirtildiğinden E seçeneği doğrulanmaktadır. Ancak parçanın II numaralı "Kitap içerisinde açıklanan kavramlar ve anlatılan durumlarla ilgili alanında ün salmış kişilerin görüşlerine yer verilmiştir." cümlesinde *Şiir ve Gerçeklik* adlı eserin tanınmış kişilerin hayatları ile ilgili metinler içerdiğine dair herhangi bir ifadeye yer verilmemiştir. Bu durumda B seçeneğinde verilen yargı, yanlış bir bilgi içermektedir.

CEVAP: B

8. İsim tamlamaları, isim soylu iki sözcüğün çeşitli ekler (tamlama ekleri) vasıtasıyla öbek kurması sonucunda ortaya çıkan söz öbekleridir. İsim tamlamalarında tamlayan ve tamlanan olmak üzere iki ana unsur bulunur. Bir isim tamlamasında anlamı belirtilen ya da açıklanan ad “tamlanan” iken tamlamalarda temel olan bir adın anlamını açıklayan ad ya da zamir ise “tamlayan”dır. İsim tamlamaları, tamlayanın ek alması durumuna göre ikiye ayrılır: belirtili isim tamlaması ve belirtilsiz isim tamlaması. Tamlayanın ilgi durum eki (-ın, -in; -nın, -nin) aldığı isim tamlamaları belirtili isim tamlaması iken tamlayanın ilgi durum eki almadan kurduğu isim tamlamaları belirtilsiz isim tamlamasıdır. Örneğin; “bahçenin kapısı” bir belirtili isim tamlaması, “bahçe kapısı” bir belirtilsiz isim tamlamasıdır. En az iki isim tamlamasının iç içe geçerek yeni bir öbek oluşturması sonucunda da zincirleme isim tamlaması oluşur. Buna örnek olarak da “bahçe kapısının rengi” ya da “bahçenin kapısının rengi” söz öbekleri gösterilebilir. İsim tamlamalarında tamlayan ile tamlanan yer değiştirebilir ve tamlayan ya da tamlanan sıfat olabilir. Tamlayanı zamir olan isim tamlamalarında ise tamlayan düşebilir. Bir isim tamlamasının tamlayanı cümle biçiminde olabilir. Bu tür kullanımlarda cümle bir söz öbeği oluşturur ve asıl cümlelerin bir ögesi konumunda görev alır. Bu soruda da bizden tamlayanı cümle biçiminde olan isim tamlamasını bulmamız istenmektedir. Bunun için öncelikle cümle denen dil yapısını bilmemiz gerekir. Cümle, “bir yargı bildirmek için tek başına çekimli bir fiil veya çekimli bir fiille kullanılan kelimeler dizisi” olarak tanımlanmaktadır. Bu durumda bir cümlede mutlaka yargı bildiren bir ifadenin yani yüklem bulunması gerekir. Ancak cümlelerin yüklemi ek fiil (-idi, -imiş, -ise, -dır) almış isim soylu bir sözcük olabilir. Buna göre seçeneklerde verilen cümlelerde tamlayan kısmında yüklem bulunan bir söz dizisi bulmamız gerekir. Seçeneklerde verilen cümleleri bu bilgiler doğrultusunda incelediğimizde E seçeneğindeki “Tanzimat Dönemi’ndeki halkı edebî eserler yoluyla eğitmeliyiz anlayışı, ilk zamanlarda niteliksiz ürünlerin ortaya çıkmasına neden oldu.” cümlesinde tamlayanı cümle olan bir söz öbeği kullanıldığını görüyoruz. Bu cümlede geçen “halkı edebî eserler yoluyla eğitmeliyiz

anlayışı” söz öbeği bir isim tamlamasıdır ve bu isim tamlamasında “halkı edebî eserler yoluyla eğitmeliyiz” cümlesi tamlayan, “anlayışı” sözcüğü de tamlanan görevindedir.

CEVAP: E

9. Öncülde verilen parçada geçen “hızlı” sözcüğü “artış” fiilimsisinin, “düzgün” sözcüğü “beslenmesi” fiilimsisinin gerçekleşme biçimini bildirdiğinden durum zarfını; “ile” ve “gibi” sözcükleri, sözcükler arasında ilgi kurma göreviyle kullanıldığından edatı; “ortaya çıkmaktadır”, “gerekmedir” sözcükleri durum bildiren ve kip, kişi eki alan sözcükler olduğundan çekimli fiili; “ve” sözcüğü, sözcükleri bağlama görevi ile kullanıldığından bağlacı örneklendirmektedir. Ancak öncülde verilen parçada, varlık adının yerini tutma görevli herhangi bir sözcük yani zamir kullanılmamıştır.

CEVAP: D

10. Öncülde verilen parçada geçen I numaralı “doğa” sözcüğünün kökü “doğ-” fiildir ve kökün üzerine fiilden isim yapım eki (-a) gelmiştir. II numaralı “bünyesinde” sözcüğünün kökü “bün-ye” ismidir ve kökün üzerine tamlanan eki/isim çekim eki (-si), zamir n’si, bulunma hâl eki/isim çekim eki gelmiştir. III numaralı “bitkileri” sözcüğünün kökü “bit-” fiildir ve kökün üzerine fiilden isim yapım eki (-gi), çokluk eki/isim çekim eki (-lar), belirtme hâl eki/isim çekim eki (-i) gelmiştir. IV numaralı “yaşam” sözcüğünün kökü “yaş-” ismidir ve kökün üzerine isimden fiil yapım eki (-a), fiilden isim yapım eki (-m) gelmiştir. V numaralı “içeriyor” sözcüğünün kökü “iç-” ismidir ve kökün üzerine isimden fiil yapım eki (-ar), şimdiki zaman eki/ fiil çekim eki (-yor) gelmiştir. Bu durumda I, III, IV ve V numaralı sözcükler, kökün üzerine gelen yapım ekleri ile meydana geldiklerinden yapı bakımından türemiş sözcüklerdir. Ancak II numaralı “bünyesinde” sözcüğünün kökü üzerine herhangi bir yapım eki gelmemiş ve sözcük, başka bir sözcükle birleşik yapı kurmamıştır. Dolayısıyla hâlâ kök hâlinde ve yapı bakımından basittir. Bu yönüyle diğer sözcüklerden ayrılmaktadır.

CEVAP: B

11. Öncülde verilen “Psikoloji öğrencilerinin sıklıkla yaşadıkları sıkıntılardan biri de klasik çalışmaların yer aldığı ders kitaplarındaki metinlerle rahat ve eleştirel bir ilişki kuramamalarıdır.” cümlesinin yüklemi “klasik çalışmaların yer aldığı ders kitaplarındaki metinlerle rahat ve eleştirel bir ilişki kuramamalarıdır” söz öbeği; öznesi de “Psikoloji öğrencilerinin sıklıkla yaşadıkları sıkıntılardan biri” söz öbeğidir. Buna göre cümle, özne ve yüklemden oluşmakta ve yüklemi öge dizilişine göre sonda yer aldığından kurallı cümle örneği göstermektedir. Bu durumda A, D ve E seçenekleri doğrulanmaktadır. Cümlede yüklem sayısı 1’dir ancak yargı sayısı “yaşadıkları, çalışmaların, yer aldığı” fiilimsileri nedeniyle birden fazladır. Bu durumda cümle, yapı bakımından birleşiktir. Dolayısıyla C seçeneği de doğrulanmaktadır. Ancak bu cümlemin yüklemine çekimli bir fiil yoktur. Yüklemde geçen “...ilişki kuramamalarıdır” söz öbeğinde fiil (ilişki kurama-), isim-fiil eki (-ma) almış ve isim soylu olmuştur. Dolayısıyla cümle, yüklemine türüne göre isim cümlesidir.

CEVAP: B

12. Türkçede anlatım kurallarına uygun hareket edilmediğinde, cümlelerde anlatım bozuklukları ortaya çıkar. Anlatım bozuklukları, insanlara iletilmek istenen temel duygu ve düşüncelerin doğru aktarılamamasına neden olduğundan bir kusur olarak karşımıza çıkar. Anlatım bozukluğunun nedeni olarak sözcüklerin yanlış anlamda ya da yerde kullanılmasını, dil bilgisi kurallarına aykırı hareket edilmesini, mantık hataları vb. örnek olarak gösterebiliriz. Öncülde verilen cümleleri bu doğrultuda incelediğimizde parçanın V numaralı “Karacaoğlu’nın bir şiiirinden hareketle ortaya çıkan bu sahiplenme, geçtiğimiz yıllarda Karacaoğlu’na ait olduğu iddia edilen bir mezar taşı ile **tescillemek** istenmiştir.” cümlesinde koyu dizilmiş sözcükten kaynaklanan bir anlatım bozukluğu olduğunu görüyoruz. Çünkü bu cümlede yüklem (...istenmiştir) edilgen çatı ile çekimlendiğini ancak cümle içinde “tescillemek” sözcüğünün etken çatılı olduğunu görüyoruz. Dolayısıyla yargı bildiren bu sözcükler arasındaki çatı uyumsuzluğu anlatım bozukluğuna neden olmuştur. Bu cümlemin “Karacaoğlu’nın bir şiiirinden hareketle ortaya çıkan bu sahiplenme, geçtiğimiz yıllarda Karacaoğlu’na ait olduğu iddia edilen bir mezar taşı ile **tescillenmek istenmiştir.**” biçiminde kurulması gerekirdi.

CEVAP: E

13. Öncülde verilen dizelerde geçen sözcükleri ses olayları bakımından incelediğimizde “kavimi” (kavm-i) ve “uykusunda” (uyku-su-n-da) sözcüklerinde bir ünlü düşmesi yaşandığını; “hakkı-nı” (hak-ı-n-ı) sözcüğünde de sözcükte olmayan “k” ünsüzünün türediğini görüyoruz. Bu durumda dizelerde yaşanan ses olayları “ünlü düşmesi-ünsüz türemesi” biçimindedir, diyebiliriz.

CEVAP: B

14. Öncülde verilen parçada geçen numaralanmış sözcükleri yazım kuralları bakımından incelediğimizde II numaralı “Almanların” sözcüğünün yazımının “Özel ada getirilen ve millet, boy, soy, sop vb. anlamlar katan çokluk eki (-lar) özel addan ayrılmaz.” kuralı gereğince doğru olduğunu görüyoruz. III numaralı “pek çok” sözcüğünün yazımı da birleşik kelimeyi oluşturan sözcüklerde anlam kaybı yaşanmamasından dolayı doğrudur. IV numaralı “el atan” sözcüğünün yazımı ise deyimleri oluşturan sözcüklerin -istisnalar dışında- ayrı yazılmasından dolayı doğrudur. V numaralı “İngiltere’nin” sözcüğünün yazımı da “Özel ada getirilen çekim ekleri kesme işareti (') ile ayrılır.” kuralı gereğince doğrudur. Bu durumda II, III, IV ve V numaralı sözcüklerin yazımında herhangi bir yanlışlık söz konusu değildir. Ancak I numaralı “Demiryolları” birleşik sözcüğünü oluşturan kelimeler anlamlarını koruduğundan bu sözcüğün bitişik yazılması bir yazım yanlışına neden olmuştur. Dolayısıyla bu sözcüğün yazımı “Demir yolları” biçiminde olmalıydı.

CEVAP: A

15. Öncülde verilen parçada I numaralı kesme işaretinin (') özel ada getirilen çekim ekini ayırma görevi ile kullanıldığını, II numaralı iki noktanın (:) kendisinden sonra açıklama yapılacak cümlelerin sonunda kullanıldığını, III numaralı kısa çizginin (-) birbiri ile ilişkili sayılar arasında kullanıldığını ve V numaralı virgölün (,) cümlelerin öznesini belirtmek için kullanıldığını görüyoruz. Bu durumda I, II, III ve V numaralı noktalama işaretlerinin kullanımında herhangi bir yanlışlık söz konusu değildir. Ancak IV numaralı üç nokta (...) tamamlanmış bir açıklama cümlesinin sonunda kullanıldığından noktalama yanlışına neden olmuştur. Çünkü bu tür cümlelerin sonuna nokta (.) konmalıdır. Üç nokta (...), anlamca tamamlanmamış cümlelerin ya da ifadelerin sonunda kullanılabilen bir noktalama işaretidir.

CEVAP: D

16. Öncülde verilen parçada geçen “Çivit gibi mavi göğün sarı toprağa değen uçlarından güneşin ulvi dalgaları köyü kıpkızıl sarmıştı. Gökte hiç bulut yoktu. Hava sıcak ve ağırdı...” sözleri ile yazar, okurun zihninde görüntü oluşturmaya çalıştığından A seçeneği; “keskin bir ahır kokusu” ifadesinde dokunma duyusu ile ilgili bir niteliği (keskin) koklama duyusu ile ilgili bir varlığa (koku) yüklediğinden B seçeneği doğrulanmaktadır. Yine parçada geçen “...Bazen elinde bakraç, yazma baş örtüsü arkasına atılmış örgülerini sallayarak bir kız duvarlardan açılan küçük bir kapıdan çıkıyor; bazen uzun sopasının bir ucunu arkasından, kollarının altından geçirmiş bir çoban çocuk başı önünde bir türkü mırıldanarak dönüyordu.” ifadeleri ile bir hareketlilik belirtilmesi ve eylemlerin art arda sunulması D seçeneğini; anlatımda “mırıldanarak” sözcüğünden faydalanılması E seçeneğini doğrulamaktadır. Ancak parçada herhangi bir ikilemeye yer verilmemiş ve ikileme vasıtasıyla pekiştirmeye başvurulmamıştır. Dolayısıyla C seçeneğindeki ifade, öncüldeki parçanın anlatımı için söylenemez.

CEVAP: C

17. Paragraflar, çeşitli cümlelerin bir konu etrafında anlamlı bir bütün oluşturacak biçimde bir araya gelmesiyle oluşur. Her paragrafın kendi içinde bir konu bütünlüğü vardır ve paragrafı oluşturan cümleler belli bir mantıksal sıralamaya, hiyerarşiye göre bir araya gelir. Paragrafları oluşturan cümleler arasındaki anlamsal ilinti, bağdaşıklık unsurlarından gönderimle sağlanır ve her cümle birbirini destekler niteliktedir. Paragrafta anlatılanlarla ilgili konuya bakış açısı değiştirilir ve daha sonra bu bakış açısının bütünlüğüne yönelik bilgiler sunulmaya başlarsa paragraf söz konusu cümleden itibaren ikiye bölünebilir. Bu tür soruların çözümünde, paragrafın giriş cümlesinin en genel yargıyı içerdiği bilgisi göz önünde bulundurulmalıdır. Çünkü kendinden önceki cümle ile bağlantı kurulmasını sağlayan gönderim öğeleri, paragrafların giriş cümlesinde bulunmaz. Buna göre, öncüde verilen parçada geçen cümleleri incelediğimizde I, II, III ve IV numaralı cümlelerde birçok edebiyat dergisinin edebî toplulukların oluşmasında, yeni edebiyat anlayışlarının yerleşmesinde ve dönem dönem genç kuşak şair ve yazarların yetişmesinde rol üstlendiğinden bahsedildiğini görüyoruz. Ancak parçanın V numaralı “Şair ve yazarlar, evvela üretkenliklerini ve yetkinliklerini edebiyat dergilerinde ispat eder, ürünlerini sergiler.” cümlesinden itibaren şair ve yazarların üretkenlik ve ustalıklarını sergiledikleri sahalar ile ilgili değerlendirmelere başlanmış, konuya bakış açısı değiştirilmiştir. VI numaralı cümle ile de bu değerlendirmeler derinleştirilmiş ve bir anlamsal bütünlük oluşturulmuştur. Bu durumda parça, V numaralı cümleden itibaren ikiye bölünebilir.

CEVAP: D

18. Paragraflar, çeşitli cümlelerin bir konu etrafında anlamlı bir bütün oluşturacak biçimde bir araya gelmesiyle oluşur. Her paragrafın kendi içinde bir konu bütünlüğü vardır ve paragrafı oluşturan cümleler belli bir mantıksal sıralamaya, hiyerarşiye göre bir araya gelir. Paragrafları oluşturan cümleler arasındaki anlamsal ilinti, bağdaşıklık unsurlarından gönderimle sağlanır ve her cümle birbirini destekler niteliktedir. Buna göre, öncüde verilen numaralanmış cümleleri incelediğimizde IV numaralı “Geleneksel mutfağımızda bulunan ve fermente özellik taşıyan, tahıl bazlı içeceklerden biri de bozadır.” cümlesi ile III numaralı “Boza; darı, mısır, piring, buğday gibi tahıllardan elde edilmektedir ve karakteristik bir tada, açık sarı bir renge sahiptir.” cümlesi arasında bir anlamsal ilişki bulunduğunu ve IV numaralı cümlelerin III numaralı cümleden hemen önce yer alması gerektiğini görüyoruz. Ayrıca II numaralı “Bu yöntemle elde edilmiş gıdalar, sağlık üzerinde olumlu etkilerinden dolayı dünya çapında yaygın olarak üretilip tüketilmektedir.” cümlesi ile de V numaralı “Çünkü bunlar besin değeri, duysal özellikler ve sindirilebilirlik açısından üstün özelliklere sahiptir.” cümlesi arasında da aynı durumun söz konusu olduğunu ve V numaralı cümlelerin II numaralı cümleden hemen sonra gelmesi gerektiğini görüyoruz. Bu durumda parçanın anlam bütünlüğünün sağlanması için III ve V numaralı cümlelerin yer değiştirmesi gerekmektedir.

CEVAP: D

19. Öncülde verilen parçadaki boşluk paragrafın gelişme bölümünde yer almaktadır. Buraya getirilecek cümlelerin kendinden öncesi ve sonrası ile bağlantıyı kurması gerekmektedir. Buna göre, parçadaki boşluktan hemen önce geçen “Nesilden nesile aktarılan bu sözler, ders verici, öğretici ve uyarıcı işleve sahiptir. İnsanın sosyal çevresiyle ve toplumla olan ilişkisini konu edinen...” ifadeleri ile boşluktan hemen sonraki “Gündelik konuşmaya benzeyen fakat bu konuşmalar arasından seçme yapan tiyatro yazını, bir düşünceyi seyirciye aktarmanın kısa yolu olarak bu sözlerle başvurur. Antik Yunan’dan günümüz tiyatrosuna kadar izi sürülebilecek bu yaklaşımda, atasözleri aracılığıyla halka (seyirciye) seslenme...” ifadeleri dikkate alındığında parçada boş bırakılan yere “sözü araç olarak kullanan tiyatro sanatında da sıkça kullanılır.” sözlerinin getirilmesi gerektiğini görüyoruz. Çünkü boşluktan önce tiyatrodan bahsedilmemişken boşluktan hemen sonra tiyatroya geçiş yapılması, paragraf kuralları gereğince arada tiyatro ile atasözleri arasındaki ilişkiyi kuracak bir ifadeyi gerektirmektedir.

CEVAP: A

20. Her paragrafın kendi içinde bir konu bütünlüğü vardır ve paragrafı oluşturan cümleler belli bir mantıksal sıralamaya, hiyerarşiye göre bir araya gelir. Paragrafları oluşturan cümleler arasındaki anlamsal ilinti, bağdaşıklık unsurlarından gönderimle sağlanır ve her cümle birbirini destekler niteliktedir. Cümle yerleştirme sorularında da bu ilişki göz önünde bulundurulmalıdır. Bu tip soruların çözümünde, öncülde verilen parçadaki cümlelerin anlam akışı kontrol edilmeli ve soru kökündeki cümle ile aralarındaki anlamsal ilişki kontrol edilmelidir. Buna göre, soru kökünde verilen “On sekiz aydan itibaren sözçük sayısında hızlı bir artış görülür.” cümlesi ile parçada geçen III numaralı “On sekiz ay civarında da 50 kadar sözçük kullanabilmektedirler.” cümlesi arasındaki anlamsal ilişkiyi dikkate aldığımızda soru kökünde verilen cümlelerin, III numaralı cümleden sonra gelmesi gerektiğini görüyoruz.

CEVAP: C

21. Öncülde verilen parçada geçen “**Romanı yazmadan kurguyu belirlerim.** Hem de kılı kırk yararak... Öteki türlü kendimi güvende hissedemem. Ama bazen roman ilerledikçe kahramanlarımdan biri ya da birkaçı bana başkaldırabilir...” ifadelerini dikkate aldığımızda bu sözlerin, B seçeneğindeki “**Eserlerinizde olay örgüsünü yazdıkça mı geliştirirsiniz?**” sorusuna karşılık olarak söylendiğini görüyoruz.

CEVAP: B

22. Öncülde verilen parçada geçen “Cumhuriyet Dönemi Türk şairleri, eski Türk şiir geleneğinden büyük ölçüde yararlanmışlardır... Günümüz Türk şairlerinin, atalarının ruhuyla irtibat kurmaları, Türk edebiyatı için sevindirici bir durumdur. **Çünkü edebiyat, gelenekten beslenerek devam eder; aksi durumlarda geriler.**” ifadelerini dikkate aldığımızda bu parçada vurgulanmak istenen düşüncenin, C seçeneğindeki “Geleneginden ve geçmişinden kopmuş edebiyat zayıflar.” yargısı olduğunu görüyoruz.

CEVAP: C

23. Öncülde verilen parçada geçen “Türkiye’de uzun zamandır öykü alanında bir durgunluğun ve tekrarın yaşandığı tartışılıyor. Bunun en dikkat çekici nedenini kendi köklerinden ve yaşamın zenginliğinden kopmuş bir öykücülük anlayışının çeşitli biçimlerde abartılması ve genel ölçü hâline getirilmesi olarak ifade edebiliriz...” ifadeleri ile Türkiye’de uzun zamandır öykünün neden gerilediğinin gerekçesi açıklanmıştır. Bu durumda öykü alanındaki durgunluğun ortadan kalkması için söz konusu gerekçelerin ortadan kalkması gerekmektedir. Bu çözümü veren ifade ise E seçeneğinde verilen “Salt hayalî unsurlardan oluşmayan, gerçeklerden de beslenen öyküler kaleme almak.” ifadesidir.

CEVAP: E

24. “İmge”nin konu edildiği öncüldeki parçada geçen “İmge; duyulur, hissedilir bir kaynaktan elde edilen tasarımlardır...” sözleri I numaralı “farklı etkenler sonucunda ortaya çıktıkları” yargısını; “...Bu bağlamda bir sanatçının ve daha özeldir bir şairin sanatındaki özü tespit edebilmek için genel olarak yaşadığı çağın üzerinde en çok durduğu imgelerle olan ilişkisini sorgulamamız gerekmektedir...” sözleri II numaralı “içinde geçtikleri eserlerin temeli hakkında bilgi sunabildikleri” yargısını doğrulamaktadır. Ancak parçada imgelerin “birer tarihî belge niteliği taşıdıkları ve başvuru kaynağı oldukları”na yönelik herhangi bir ifadeye yer verilmemiştir.

CEVAP: D

25. Öncülde verilen parçada geçen “...İmgeler; anı, algı ve düşünce kaynaklıdır. Yağan yağmurun bizi geçmişteki bir olaya götürmesi, bir anı imgesi ile gerçekleşirken bir olay, bir kişi ya da eşyanın herhangi bir düşünceye sevk etmesi de düşünce imgelerini akla getirir...” sözlerinden hareketle A, B, C ve D seçeneklerinde verilen durumların söz konusu kişileri düşüncelere sevk ettiğini görüyoruz. Bu durumda, bu seçeneklerde verilen durumlar bir düşünce imgesidir. Ancak E seçeneğinde verilen “Metroda duyulan bir şarkının kendisine yapılan evlilik teklifini akla getirmesi”nde bir imgenin geçmişte yaşanmış bir olaya götürmesi söz konusu olduğundan bu durum bir anı imgesi niteliği taşımaktadır, diyebiliriz.

CEVAP: E

26. Öncülde verilen parçada geçen “...Tıpkı Necip Fazıl Kısakürek’e yağmurun, Yahya Kemal’e de ağır ağır giden bir geminin ölümü düşündürmesi gibi...” ifadelerinde benzetme ilgisi kurulması A seçeneğini; “...İmgeler; anı, algı ve düşünce kaynaklıdır. Yağan yağmurun bizi geçmişteki bir olaya götürmesi, bir anı imgesi ile gerçekleşirken bir olay, bir kişi ya da eşyanın herhangi bir düşünceye sevk etmesi de düşünce imgelerini akla getirir...” ifadeleri ile düşüncenin örnekle somutlaştırılması B seçeneğini; “...Bu bağlamda bir sanatçının ve daha özeldir bir şairin sanatındaki özü tespit edebilmek için genel olarak yaşadığı çağın üzerinde en çok durduğu...” ifadelerinde kıyaslama yapılması C seçeneğini; “İmge; duyulur, hissedilir bir kaynaktan elde edilen tasarımlardır.” cümlesi ile imgenin tanımının yapılması D seçeneğini doğrulamaktadır. Ancak parçada düşüncelerin doğruluğunu kanıtlamak adına tanınmış birinin sözüne başvurulmamıştır. Bu durumda parçanın anlatımında tanık gösterme yoktur.

CEVAP: E



**27. - 30. soruların çözümü**

Marketten üç ekmek, iki süt, bir çikolata, bir su, iki paket deterjan olmak üzere toplam dokuz adet ürün alınmış. Soruda en az sayıda ve en çok sayıda ürün almış kişilerden bahsedilmiştir. Buna göre, kişilerin aldıkları ürün sayıları 1, 2, 2, 4 olmalıdır. Ediz ve Elif'in aldıkları tüm ürünler aynı olduğuna göre Ediz ve Elif ikişer adet, Eda ve Ersin'den biri bir adet diğeri dört adet ürün almıştır.

"En çok sayıda ürün alan kişi deterjan almamıştır." bilgisine göre bu kişi 4 ürün aldığından bu ürünler ekmek, süt, çikolata ve sudur. Buna göre Ediz ve Elif'in aldığı aynı ürünler deterjan ve ekmektir.

Bu bilgilere göre aşağıdaki tablo oluşturulabilir.

Ekmek	Süt	Çikolata	Su	Deterjan
Ediz				Ediz
Elif	(en çok)	(en çok)	(en çok)	Elif
(en çok)	(en az)			

Kasada birinci sıradaki kişi süt almadığına göre birinci sıradaki kişi ya Ediz ya da Elif'tir. Yani iki ürün alan kişilerden biridir.

Kasada dördüncü sıradaki kişi su aldığına göre dördüncü sıradaki kişi en çok sayıda yani dört ürün alan kişidir.

Ediz ile Elif kasada arka arkaya olmadığına göre ikinci sıradaki kişi bir ürün alan kişidir.

Bu bilgiye göre aşağıdaki tablo oluşturulabilir.

1. sıra	2. sıra	3. sıra	4. sıra
2 ürün	1 ürün	2 ürün	4 ürün

- 27.** Verilen tablo incelenirse Elif'in deterjan aldığı bilgisi kesinlikle doğrudur.

**CEVAP: C**

- 28.** Verilen tablo incelenirse kasada üçüncü sıradaki kişi iki ürün almıştır. Bu kişi Eda olamaz.

**CEVAP: D**

- 29.** Ersin'in çikolata aldığı bilgisi verilirse Ersin'in dört, Eda'nın bir ürün aldığı belli olur.

**CEVAP: E**

- 30.** Kasada ikinci sırada Eda alışveriş yaparsa dördüncü sırada da Ersin alışveriş yapar. Buna göre Ersin son sıradadır.

**CEVAP: A**

$$\begin{aligned}
 31. \quad & \frac{\frac{2}{3}}{\frac{2}{3}} - \frac{\frac{2}{3}}{\frac{3}{2}} = \frac{\frac{2}{3}}{\frac{3}{1}} - \frac{\frac{2}{1}}{\frac{3}{2}} \\
 & = \frac{2}{3} \cdot \frac{1}{3} - \frac{2}{1} \cdot \frac{2}{3} \\
 & = \frac{2}{9} - \frac{4}{3} \\
 & \quad \quad \quad (3) \\
 & = \frac{2-12}{9} \\
 & = -\frac{10}{9} \text{ bulunur.}
 \end{aligned}$$

**CEVAP: C**

**34.**  $x + y(y - x) + (x - y) \cdot x - y = 0$   
 $(x - y) - y(x - y) + x(x - y) = 0$   
 $(x - y) \cdot [1 - y + x] = 0$   
 $(x - y) = 0$  veya  $[1 - y + x] = 0$   
 $x = y$   $x - y = -1$   
 $x \neq y$  verilmiştir.

**CEVAP: B**

**32.**  $x + \frac{8}{25} = x + \frac{32}{100}$   
 $= x + 0,32$  ( $1 - 0,32 = 0,68$ )'dir.  
 Buna göre, x'in virgülden sonraki kısmı 68 olup rakamları toplamı  $6 + 8 = 14$ 'tür.

**CEVAP: E**

**35.**  $|x - 2| \cdot |2x + 4| = 10$

$|x - 2| \cdot 2|x + 2| = 10$

$|(x - 2)(x + 2)| = \frac{10}{2}$

$|x^2 - 4| = 5$

$\swarrow \quad \searrow$

$x^2 - 4 = 5 \qquad x^2 - 4 = -5$

$x^2 = 9 \qquad x^2 = -1$

$\qquad \qquad \qquad \emptyset$

**CEVAP: D**

**33.** 
$$\frac{n!}{(n-3)!} + \frac{(n-1)!}{(6-2n)!}$$

ifadesinde faktöriyel tanımlı gereğince  $n - 3 \geq 0$  ve  $6 - 2n \geq 0$  olmak zorundadır.

$n \geq 3$  ve  $n \leq 3 \Rightarrow n = 3$ 'tür.

$$\frac{3!}{(3-3)!} + \frac{(3-1)!}{(6-2.3)!} = \frac{3!}{0!} + \frac{2!}{0!}$$
$$= \frac{6}{1} + \frac{2}{1} = 8 \text{ olur.}$$

**CEVAP: B**

**36.**  $x$  sayısı 7 ile bölündüğünde kalan 2 verilmiştir.

$$\left. \begin{array}{r} x \mid 7 \\ \hline 2 \mid 0 \end{array} \right\} \begin{array}{l} x = 7 \cdot 0 + 2 \\ x = 2 \text{ seçilebilir.} \end{array}$$

Buna göre,  $x + 5 = 2 + 5 = 7$  sayısı 7 ile tam bölünür.

**CEVAP: A**

37.  $x + y < x < x \cdot y$

$$x + y < x \Rightarrow y < 0 \text{ olur.}$$

Buna göre;

I.  $x > 0$  yanlıştır.

II.  $x - y > 0 \Rightarrow x > y$  her zaman doğru değildir.

III.  $x < 0$  ve  $y < 0 \Rightarrow \frac{x}{y} > 0$  her zaman doğrudur.

Buna göre, yalnız III numaralı öncül her zaman doğrudur.

CEVAP: B

38.  $\frac{\sqrt{130 \cdot (1+2+3+\dots+64)}}{8}$

$$= \frac{\sqrt{130 \cdot \frac{64 \cdot 65}{2}}}{8}$$

$$= \frac{\sqrt{65 \cdot 65 \cdot 64}}{8}$$

$$= \frac{\sqrt{65^2 \cdot 8^2}}{8}$$

$$= \frac{65 \cdot 8}{8}$$

$$= 65$$

CEVAP: A

39.  $4^{2-a} = 4^2 \cdot 4^{-a} = \frac{4^2}{4^a} = \frac{16}{(2^a)^2}$  olup

$2^a = 6$  olduğundan yerine yazılırsa

$$\frac{16}{6^2} = \frac{16}{36} = \frac{4}{9} \text{ dur.}$$

CEVAP: E

40.  $a^2 = 200 \cdot b$

$$a^2 = 2^3 \cdot 5^2 \cdot b$$

$b$ 'nin en küçük değeri 2 seçilmelidir.

$$a^2 = 2^3 \cdot 5^2 \cdot 2 = 2^4 \cdot 5^2$$

$$a = 2^2 \cdot 5 = 20$$

$$\Rightarrow a + b = 20 + 2 = 22$$

CEVAP: D

41. Çarpımının birler basamağı 8 olduğundan,  $n$  sayısı 2 veya 7 olmalı

2 alınırsa 32 sayısı 1728 sayısını tam böler.

$$1728 : 32 = 54 \text{ olur.}$$

$$m = 5 \text{ tir.}$$

$$m + n = 5 + 2 = 7 \text{ olur.}$$

CEVAP: C

42.  $a - b = 3$

$$+ \quad b - c = 3$$

$$a - c = 6$$

$$a^2 + c^2 - 2b^2 = a^2 - b^2 + c^2 - b^2$$

$$= \left( \frac{a-b}{3} \right) \cdot (a+b) + \left( \frac{c-b}{-3} \right) \cdot (c+b)$$

$$= 3a + 3b - 3c - 3b$$

$$= 3(a - c)$$

$$= 3 \cdot 6 = 18$$

CEVAP: B

43.  $f(n+2) = 2f(n) + 4$  ifadesinde,

$$n = 1 \text{ için } f(3) = 2f(1) + 4$$

$$n = 0 \text{ için } f(2) = 2f(0) + 4$$

$$(f(0) = 0 \text{ verilmiştir.})$$

$$\Rightarrow f(2) = 4 \text{ olur.}$$

$$n = 1 \text{ için } f(2) = 2f(1)$$

$$(f(2) = 4 \text{ bulunmuştur.})$$

$$\Rightarrow 4 = 2f(1) \Rightarrow f(1) = 2 \text{ dir.}$$

$$f(3) = 2f(1) + 4$$

$$\Rightarrow f(3) = 2 \cdot 2 + 4 = 4 + 4 = 8 \text{ olur.}$$

CEVAP: B

44.  $A = \{a, b, c, d, e, f\}$

kümesi 6 elemanlı olup en çok 2 elemanlı alt küme sayısı,

$$\binom{6}{0} + \binom{6}{1} + \binom{6}{2} = 1 + 6 + \frac{6 \cdot 5}{2 \cdot 1} \\ = 7 + 15 \\ = 22 \text{ 'dir.}$$

CEVAP: A

47.  $\frac{3}{5} = \frac{3k}{5k}$  bugünkü yaşları toplamı

$3k + 5k = 8k$  olup 8 yıl sonraki yaşları toplamı

$$8k + 8 + 8 = 72 \Rightarrow 8k = 72 - 16$$

$$8k = 56$$

$$k = 7$$

$$\frac{3k}{5k} = \frac{21}{35} \text{ olup yaş farkı, } 35 - 21 = 14 \text{ 't'ür.}$$

CEVAP: E

48. Maliyete  $100x$  dersek,

%30 kârla satış fiyatı  $130x$  olur.

$$130x - 50 = 100x + 10$$

$$30x = 60$$

$$x = 2$$

$$\text{Maliyet} = 100x = 100 \cdot 2 = 200 \text{ TL'dir.}$$

CEVAP: C

45. İki tavla zarı atıldığında üst yüze gelen sayıların çarpımının 4'e tam bölünebileceği durumlar:

(1, 4), (2, 2), (2, 4), (2, 6), (3, 4),

(4, 1), (4, 2), (4, 3), (4, 4), (4, 5)

(4, 6), (5, 4), (6, 2), (6, 4), (6, 6)

olup 15 tanedir.

Buna göre, istenen olasılık

$$\frac{15}{36} = \frac{5}{12} \text{ 'dir.}$$

CEVAP: D

49.

Fatih

Barış

$$100x + 60$$

$$100x$$

$$\Rightarrow (100x + 60) \cdot \frac{130}{100} = 100x \cdot \frac{150}{100}$$

$$\Rightarrow 1300x + 780 = 1500x$$

$$200x = 780$$

$$x = 3,9 \text{ 'dur.}$$

Buna göre, Fatih'in zamlı beraber haftalığı,

$$100x + 60 = 100 \cdot 3,9 + 60$$

$$= 450 \text{ TL'dir.}$$

CEVAP: C

46.  $\frac{x+y}{x} = \frac{5}{2} \Rightarrow 5x = 2x + 2y$

$$\Rightarrow 3x = 2y$$

$$\Rightarrow \frac{x}{y} = \frac{2}{3}$$

$$\frac{y}{y+z} = \frac{3}{4} \Rightarrow 4y = 3y + 3z$$

$$\Rightarrow y = 3z$$

$$\frac{x}{y} = \frac{2}{3} \text{ ifadesinde } y = 3z \text{ yerine yazılırsa}$$

$$\frac{x}{3z} = \frac{2}{3} \Rightarrow \frac{x}{z} = 2 \text{ olur.}$$

CEVAP: A

50. A programını 3 ay kullandıktan sonra

B programını kullanmaya başlamış ise

$$A \rightarrow 3 \text{ ay} + 2 \text{ ay} + 60 \text{ TL} \cdot (x \text{ ay})$$

$$B \rightarrow 4 \text{ ay} + 75 \text{ TL} \cdot (x - 2 \text{ ay})$$

Toplam 930 TL ödediğine göre;

$$60 \cdot x + 75(x - 2) = 930$$

$$60x + 75x - 150 = 930$$

$$135x = 1080$$

$$x = 8 \text{ 'dur.}$$

Buna göre, A programını

$$5 + x = 5 + 8 = 13 \text{ ay kullanmıştır.}$$

CEVAP: D

51. Telin tamamı x cm olsun

$$\frac{x}{6} - \frac{x}{10} = 3$$

(5)      (3)

$$\frac{5x - 3x}{30} = 3$$

$$2x = 90$$

$$x = 45 \text{ cm'dir.}$$

CEVAP: D

52. İlk 19 öğrenciye;

1. öğrenci 1 hediye

2. öğrenci 2 hediye

3. öğrenci 3 hediye

⋮

19. öğrenci 19 hediye

$1 + 2 + 3 + \dots + 19 = \frac{19 \cdot 20}{2} = 190$  hediye dağıtılır.

Buna göre;

20. öğrenci  $215 - 190 = 25$  tane hediye alır.

CEVAP: B

53. Tablo 1, 2 ve 3 rakamları her satır ve sütunda yalnız bir kere kullanılacak şekilde aşağıdaki gibi doldurulur.

1	3	2
3	2	1
2	1	3

Buna göre; A = 2, B = 2 ve C = 2 olup,

$$A \cdot B \cdot C = 2 \cdot 2 \cdot 2 = 8 \text{ olur.}$$

CEVAP: C

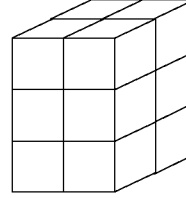
#### 54. - 55. soruların çözümleri

54. Cisme üstten bakıldığında 3 mavi, 3 kırmızı ve 1 sarı küp görünür.

S	M	K
M	M	K
K		

CEVAP: D

55. En az 3 küpün yerinin değişmesiyle;



dikdörtgen prizma elde edilir.

CEVAP: B

#### 56. - 57. soruların çözümleri

Verilen bilgiye göre 1 kg çilek x TL'ye alınmış ise 1 kg erik 3x TL ve 1 kg muz 6x TL olur.

Market sahibi 5 kg erik, 6 kg çilek ve 4 kg muz satışından 360y TL kâr etmiş olsun.

5 kg erikten 150y TL

6 kg çilekten 90y TL

4 kg muzdan 120y TL kâr elde edilir.

56. 1 kg erikten  $\frac{150y}{5} = 30y$  TL,

1 kg çilekten  $\frac{90y}{6} = 15y$  TL kâr elde edilir.

$$\begin{array}{r} 30y \qquad \qquad 15y \text{ TL} \\ 100 \qquad \qquad ? \\ \hline \end{array}$$

$$? = 50$$

%50 daha azdır.

CEVAP: E

57. 6 kg çileğin maliyeti 3A TL olursa 5 kg eriğin maliyeti 5A + 10 olur.

Kâr = Satış - Maliyet olduğundan,

$$\frac{15x - (5A + 10)}{6x - 3A} = \frac{150}{90}$$

$$\frac{15x - 5A - 10}{6x - 3A} \times \frac{5}{3}$$

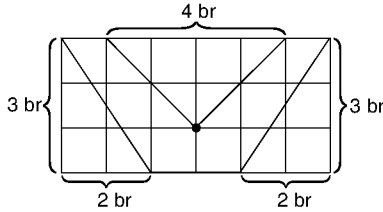
$$45x - 15A - 30 = 30x - 15A$$

$$15x = 30$$

$$x = 2 \text{ TL bulunur.}$$

CEVAP: A

58.

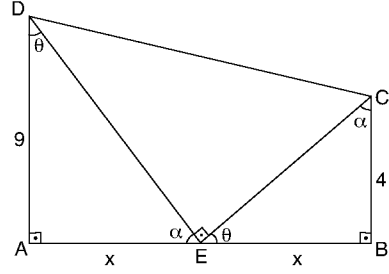


Yukarıdaki şekilde görüldüğü gibi tüm dikdörtgenden taralı olmayan üçgenlerin alanını çıkarırsak boyalı kısmın alanını bulunuz.

$$3 \cdot 6 - \frac{3 \cdot 2}{2} - \frac{3 \cdot 2}{2} - \frac{4 \cdot 2}{2} = 8 \text{ br}^2 \text{ bulunur.}$$

CEVAP: B

59.



Şekle göre,  $\triangle DAE \sim \triangle ECB$  (A . A . A) olduğu görülür. Buna göre,

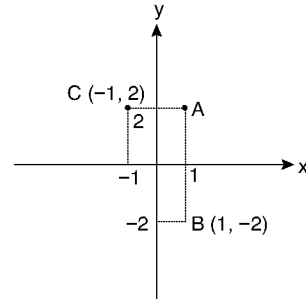
$$\frac{9}{x} = \frac{x}{4}$$

$$x^2 = 36$$

$$x = 6 \text{ bulunur.}$$

CEVAP: B

60.



Şekilde görüldüğü gibi B noktasının koordinatları (1, -2) ve C noktasının koordinatları (-1, 2) olur. Bu iki noktadan geçen doğrunun eğimi m olsun.

$$m = \frac{2 - (-2)}{-1 - 1} = \frac{4}{-2} = -2 \text{ bulunur.}$$

CEVAP: A

1. Doğu Roma (Bizans) İmparatorluğu ile Margos Antlaşması'nı imzalayan devlet, E seçeneğindeki Avrupa Hun Devleti'dir. Bu antlaşmaya göre;
- Bizans'ın ödediği vergi iki katına çıkarılmıştır.
  - Hun ülkesinden kaçan kaçaklar Bizans'a kabul edilmeyecektir.
  - Bizans, Hunların düşmanları ile ittifak ilişkilerinde bulunmayacaktır.

CEVAP: E

4. Fetret Devri, 1402'de meydana gelen Ankara Savaşı'ndan sonra başlamış ve 1413'e kadar devam etmiştir. Bu devirde Osmanlı tahtı boş kalmış, Yıldırım Bayezit'in oğulları arasında taht kavgaları yaşanmıştır.

Mehmet Çelebi, İsa Çelebi, Süleyman Çelebi ve Musa Çelebi arasında süren bu mücadeleyi I. Mehmet Çelebi kazanmış ve Osmanlı tahtına çıkmıştır.

CEVAP: C

2. Sorunun doğru cevabı A seçeneğindeki Yusuf Has Hacıp'tir. Bahsedilen eser ise *Kutadgu Bilig*'dir. Bu eser ideal devlet yönetiminden bahsetmekte, devlet ve halk arasındaki karşılıklı görevleri anlatmaktadır. *Kutadgu Bilig*, Türk-İslam dünyasının ilk siyasetnamesi olarak bilinmektedir.

CEVAP: A

3. Sivas Divriği merkezli olarak kurulan bu beylik B seçeneğindeki Danişmentlilerdir. Danişmentliler, Anadolu'daki ilk medrese olan Yağıbasan Medresesi'ni yaptırmıştır. Bizans, Ermeni ve Haçlı kuvvetleriyle mücadele eden bu beylik, II. Kılıç Arslan Dönemi'nde Türkiye Selçuklularına bağlanmıştır.

CEVAP: B

5. Ticaret yolları üzerinde tüccarların mallarını taşıyanlar C seçeneğindeki "Mekkâri taifesi"dir. Diğer seçeneklerdeki kavramlara kısaca bakalım;

- **Bezirgan:** Osmanlı ekonomik sistemi içindeki büyük tüccarlardır.
- **Ehl-i Hibre:** Üretilen malların fiyat ve kalite kontrolünü yaparak tüketicinin zarar görmesini engelleyen lonca görevlisi, bilirkişidir.
- **Ehl-i Hırfet:** Ürettiği malları kendi dükkânlarında satan zanaat erbabıdır.
- **Ahiler:** Müslüman esnafların oluşturduğu dayanışma birliğidir.

CEVAP: C

6. I. öncülde kadınların yetişmesini sağlayan Medresetü'l-Kudata yer verilmiştir.  
II. öncüldeki Darü'l-Kurra ise Kur'an alanında eğitim veren bir ihtisas medresesidir.  
III. öncüldeki Medresetü'l-Vaizin ise vaiz yetiştiren eğitim kurumudur.  
Bu durumda sorunun doğru cevabı A seçeneği olmalıdır.

CEVAP: A

9. Bahsedilen savaş 1877 - 1878 Osmanlı - Rus Savaşı'dır. Bu savaş 93 Harbi olarak da bilinmektedir. Ruslarla Doğu Anadolu'da ve Balkanlar'da mücadele eden Osmanlı Devleti, Gazi Osman Paşa ve Süleyman Hüsnü Paşa'nın gayretlerine rağmen bu mücadeleyi kaybetmiş, önce Ayastefanos daha sonra ise Berlin Antlaşması'nı imzalamıştır.

CEVAP: C

7. A, B, C ve D seçeneklerinde ıslahatlarla, bu ıslahatları gerçekleştiren ıslahatçılar doğru olarak eşleştirilmiştir.  
Ancak E seçeneğindeki ilk daimî elçilikler I. Abdülhamit değil, III. Selim Dönemi'nde Avrupa başkentlerinde açılmıştır.

CEVAP: E

10. Restorasyon Dönemi 1815 Viyana Kongresi'yle başlamış, 1827'de Osmanlı donanmasının Navarin'de yakılmasına kadar devam etmiştir. Avrupa devletleri ulusçu ayaklanmalara karşı ortak tavır almışken, Yunan İsyanı'na destek vererek Navarin'de Osmanlı donanmasını yakmışlardır.

CEVAP: A

8. İltizam sistemi, vergi gelirlerinin açık artırma yöntemiyle satılmasıdır. Esham ise iç borçlanma anlamına gelmektedir. Malikâne sisteminde belirli bölgelerin vergi gelirleri ömür boyu kişilere satılmıştır. Dolayısıyla A, B, D ve E seçeneklerinde devletin nakit ihtiyacının giderilmesi için önlemler alındığı görülmektedir.  
Fakat Âyanların haklarının genişletilmesi, merkezî otoritenin zarar görmesine ve taşradaki devlet hâkimiyetinin sarsılmasına neden olmuştur. (II. Mahmut Dönemi'nde, XIX. yüzyılda genişletilmiştir.)

CEVAP: C

11. Sorumuzun cevabı C seçeneğindeki Abdülaziz'dir. Abdülaziz aynı zamanda ilk yurt dışı gezisine çıkan Osmanlı padişahıdır. İstanbul'dan yola çıkan padişah, Fransa, İngiltere, Almanya ve Avusturya'yı dolaşmıştır.

CEVAP: C



12. Fransız İhtilali sonucunda eşitlik, hukukun üstünlüğü ve demokrasi gibi kavramlar dünyaya yayılmıştır. Bu düşüncelerin etkisiyle Osmanlı Devleti'nde Tanzimat ve Islahat fermanlarıyla, Kanunuesasi ve Meşrutiyet ilan edilmiştir.

A seçeneğindeki Sened-i İttifak'ta ise Fransız İhtilali'nin etkisi yoktur. Bu belge, padişah ve Âyanlar arasında imzalanmıştır.

CEVAP: A

15. Özellikleri verilen devlet adamı C seçeneğindeki Bekir Sami Kunduh'tur. Londra Konferansı'nda Misakımillî ilkelerini savunmuşsa da İtilaf Devletleriyle yaptığı esir değişimi antlaşmaları, TBMM tarafından eşitlik ilkesine aykırı olduğu gerekçesiyle reddedilmiştir. Bu aşamadan sonra Bekir Sami Bey Dışişleri Bakanlığı görevinden ayrılmıştır.

CEVAP: C

13. Osmanlıcılık, tüm vatandaşların din, dil ve ırk ayrımı yapılmaksızın eşit olmasını ve kaynaşmış bir toplumun oluşturulmasını hedefleyen bir düşünce akımıdır. Balkan Savaşları sırasında Arnavutluk'un Osmanlı Devleti'nden ayrılması ise Osmanlıcılık düşüncesinin işe yaramadığını göstermektedir.

CEVAP: C

16. Misakımillî, Millî Mücadele'nin siyasi programı niteliğindedir. Bu belge ayrıca Türklerin asgari barış şartlarını öne sürmektedir. Misakımillî'de millî sınırlar, Boğazlar, azınlık hakları, kapitülasyonlardan bahsedilmişken, E seçeneğindeki ulusal egemenlik konusu bu belgede yer almamıştır.

CEVAP: E

14. Birinci Dünya Savaşı'nın başlamasıyla Osmanlı Devleti tarafsızlığını ilan etmiştir. Ancak İngiltere'den kaçan Goben ve Breslaw isimli Alman gemileri Osmanlı Devleti'ne sığınmış ve Osmanlı Devleti bu gemileri satın aldığını açıklamıştır. Yavuz ve Midilli olarak isimleri değiştirilen gemiler Rusya'nın Odessa ve Sivastopol limanlarını bombalayınca Osmanlı Devleti de resmen savaşa dâhil olmuştur. II. öncüldeki Soçi Limanı'na ise bu gemiler tarafından saldırı düzenlenmiştir.

CEVAP: D

17. İstiklal Marşı ilk olarak Kastamonu'da yayın yapan Açığsöz gazetesinde yer almıştır.

Seçeneklerde yer alan Alemdar gazetesi Millî Mücadele'nin karşısında yer almıştır. Vakit, İleri ve İktidam ise Millî Mücadele'yi destekleyen gazetelerdir.

CEVAP: A

Kpss Kaynak Arşivi - Kpss Doküman Arşivi  
https://www.facebook.com/KpssKaynakArsivi

18. TBMM, Doğu Cephesi'nde Ermenilerle mücadele etmiş ve buradaki savaşlar Gümrü Antlaşması'yla sona ermiştir. Daha sonra TBMM, Sovyet Rusya ile Moskova Antlaşması'nı imzalayarak Batum'un Gürcistan'a ait olduğunu kabul etmiştir. Ülkemizin doğu sınırlarını kesinleştiren antlaşma ise Kafkas devletleriyle imzalanan Kars Antlaşması'dır.

CEVAP: C

20. – Şeyh Sait Ayaklanması 13 Şubat 1925'te ortaya çıkmıştır.  
– Atatürk'e 1926'da İzmir'de gerçekleştirilmek istenen suikast engellenmiş ve suçlular İstiklal Mahkemelerinde yargılanmıştır.  
– Serbest Cumhuriyet Fırkası Fethi Okyar tarafından 1930'da kurulmuştur.

Bu durumda kronolojik sıralama III - II - I şeklinde olacağından doğru cevap E seçeneğidir.

CEVAP: E

BENİM HOCAM BENİM BAŞARIM -

19. Özellikleri verilen eser A seçeneğinde yer alan ve üç ciltten oluşan *Tek Adam* adlı eserdir. Diğer eserlere bakacak olursak:

- *Yaban*, Yakup Kadri Karaosmanoğlu'na,
- *Ateşten Gömlek* ve *Türk'ün Ateşle İmtihanı* adlı eserler Halide Edip Adıvar'a,
- *Çankaya* adlı eser ise Falih Rıfkı Atay'a aittir.

CEVAP: A

21. Atatürk Dönemi'nde A, B, C ve D seçeneklerinde belirtilen bankalar kurulmuştur.

Ancak E seçeneğindeki Vakıfbank ise Atatürk Dönemi'nde değil, 11 Ocak 1954'te kurulmuştur.

CEVAP: E

- 22.** Mustafa Kemal sözlerinde ulusal egemenliği ve dolayısıyla demokrasiyi vurgulamıştır. Bu unsurlar Atatürk'ün cumhuriyetçilik ilkesiyle doğrudan ilgilidir. A, B, C ve E seçeneklerinde cumhuriyetçilik ilkesi doğrultusunda yapılan inkılaplara yer verilmiştir. Bu inkılaplar sayesinde halkın yönetimdeki temsil gücü artmıştır.

Ancak D seçeneğindeki tek parti idaresi demokrasi ve cumhuriyet ilkeleriyle çelişmektedir. Cumhuriyet yönetiminin özünde çok seslilik ve dolayısıyla çok partili düzen vardır.

**CEVAP: D**

- 24.** I. ve II. öncülde yer alan gelişmeler dünya barışını ve dolayısıyla Boğazların geleceğini tehdit etmektedir. Türkiye bu gelişmeler üzerine, daha önce Lozan'ı imzalayan ülkelere bir nota vermiş ve Montrö Boğazlar Sözleşmesi'nin imzalanmasını sağlamıştır. Bu sözleşmeyle birlikte Türkiye, Boğazlar üzerinde tam anlamıyla egemen olmuş ve Boğazları istediği gibi silahlandırma hakkına sahip olmuştur.

Ancak III. öncüldeki Sadabad Paketi 1936'daki Montrö Boğazlar Sözleşmesi'nden sonra 1937'de imzalanmıştır.

**CEVAP: C**

BENİM HOCAM BENİM BAŞARIM

- 23.** Atatürkçü düşünce sisteminde temel amaçlardan biri çağdaş medeniyetler seviyesine ulaşmaktır. Bu durum Atatürk'ün inkılapçılık ilkesini önemli hâle getirmektedir. İnkılapçılık ilkesi, var olan yenilik hareketlerinin sürekli olarak geliştirilmesini amaçlamaktadır. Böylece inkılapçılık, Atatürk ilkelerinin bütününe bir dinamizm katmaktadır.

**CEVAP: D**

- 25.** 1929 Dünya Ekonomik Krizi tüm dünyayı etkilediği gibi Türk ekonomisini de sarsmıştır. Bu kriz Türkiye'deki üretimi ve dış ticareti olumsuz etkilemiştir. A, B, C ve D seçeneklerinde bu krize karşı alınan önlemlere yer verilmiştir.

Ancak E seçeneğindeki Teşvik-i Sanayi Kanunu krizden daha önce 1927'de çıkarılmıştır.

**CEVAP: E**

- 26.** Doğu Bloku İkinci Dünya Savaşı'ndan sonra SSCB idaresinde, Batı Bloku'na rakip olarak ortaya çıkmıştır. Komünist ülkelerden oluşan bu blok kendi arasında Varşova Paktı'nı kurarak sağlam bir birliktelik oluşturmak istemiştir. Bu ülkelerden Yugoslavya, SSCB'nin politikalarını eleştirerek bu bloktan kopan ilk devlet olmuştur.

CEVAP: C

- 28.** Kocaeli, Bilecik, Kütahya ve Elmalı aynı meridyen üzerinde yer alan merkezlerdir. Bu nedenle Güneş'in tepe noktasına ulaştığı öğle vaktini aynı anda yaşarlar ve aynı yerel saate sahiptirler. Belirtilen merkezler farklı enlemlerde yer aldıklarından yıl içinde ekinoks tarihleri dışında (21 Mart - 23 Eylül) farklı uzunlukta gündüz süreleri yaşarlar. Bu nedenle Güneş'in ufuk düzlemi üzerinde görüldüğü süreler farklılık göstermektedir ve bu durum eksen eğikliğinin sonucudur. Dünya'nın küresel şeklinden dolayı Ekvator'dan kutuplara doğru gidildikçe çizgisel dönüş hızı azalır. Çizgisel hızın en fazla olduğu merkez Elmalı, en az olduğu merkez ise Kocaeli'dir.

CEVAP: B

- 27.** Özellikleri verilen lider B seçeneğindeki Yaser Arafat'tır. Diğer isimleri kısaca açıklayacak olursak;

- **İzak Rabin:** 1974 - 1977 ve 1992 - 1995 arasında İsrail'in başbakanlığını yürütmüştür.
- **Mahmut Abbas:** Filistin Kurtuluş Örgütü kurucularındandır. Filistin devlet başkanı olarak görev yapmaktadır.
- **Enver Sedat:** Mısır Devleti'nin ikinci cumhurbaşkanıdır. 1981'de suikasta uğramıştır.
- **Ramiz Alia:** 1985 - 2001 yılları arasında Arnavutluk'un liderliğini yapmıştır. Arnavutluk'un son komünist devlet başkanıdır.

CEVAP: B

- 29.** Konya'da yer alan Meke Tuzlası (Meke Gölü) Türkiye'nin jeolojik açıdan önem taşıyan volkanik yapılarından biridir. Volkanik gaz sıkışmasıyla yaşanan bir patlamanın eseri olan çukurun sularla dolması sonucunda oluşan Meke, tipik bir maar gölüdür. Doğu Anadolu'da yer alan Hazar Gölü, yer kabuğu hareketleri sonucunda oluşan bir tektonik göl örneğidir. Batı Karadeniz'de yer alan Küre (İsfendiyar) Dağları, orojenik hareketlerle oluşmuş sıradağlara örnektir. Marmara Denizi'nin güney kıyılarında yer alan Kapıdağ Yarımadası, dalga ve akıntıların yaptığı birikim faaliyetleri sayesinde oluşan bir tombolodur. (Saplıada) İstanbul'un kuzey kıyılarında yer alan Şile'de görülen falezler ise dalga aşındırması sonucunda oluşmuş dik yamaçlardır.

CEVAP: B

**30.** Türkiye’de sanayinin dağılışı, ham madde başta olmak üzere çeşitli faktörlere bağlıdır. Küçükbaş hayvancılık geliştiği için ham maddesi bol olan halı dokumacılığı Isparta ve Bünyan’da gelişmiştir. Uygun toprakların yaygın olduğu Bozüyük ve Çanakkale’de seramik ürünleri, ormanların yaygın olduğu Dalaman (Muğla) ve Taşucu’nda (Mersin) orman ürünleri üretimi yapılır. Sebze ve meyve üretiminin yaygın olduğu Bursa ve Çanakkale’de ise konserve üretimi yaygındır. İstanbul, Bolu ve İzmir’de deri sanayinin gelişmesi ise ham maddeye yakınlıkla ilgili değildir. Diğer birçok sanayi dalında olduğu gibi uygun pazarlama, iş gücü, ulaşım ve elverişli konum gibi faktörlerin etkisiyle belirtilen alanlarda sanayi türleri yaygınlaşmıştır.

CEVAP: A

**32.** Türkiye, enerji kaynakları bakımından dışa bağımlı bir ülkedir. Grafikte yıllara göre verilen değerler, enerji kaynağı ihtiyacının her geçen yıl daha yüksek oranlarda ithal edildiğini ve ihtiyacın bu yolla karşılandığı görülmektedir. Diğer seçeneklerde verilen bilgilerin tamamı doğrudur. Ancak bu bilgileri grafikte verilenlerden anlamak mümkün değildir.

CEVAP: D

**31.** Şehirlerin gelişiminde gerek ekonomik gerekse askerî, kültürel ve idari yapı gibi fonksiyonların rolü vardır. Batman, Zonguldak ve Elâzığ çeşitli maden yataklarının çıkarılması ve işlenmesi sayesinde gelişmiş merkezlerdir. Örneğin; 1950’li yıllarda petrol ilk bulunduğu Batman küçük bir yerleşmeydi. Günümüzde Batman’ın yaklaşık 580.000 kişinin yaşadığı bir şehre dönüşmesinde, petrol yataklarının keşfedilmesi ve işlenmesinin rolü büyüktür.

CEVAP: E

**33.** Bor tuzları Türkiye’de üretilen en stratejik yer altı kaynaklarından biridir. Bor madeninin çok geniş bir kullanım alanı vardır. Isıya dayanıklı cam, çimento başta olmak üzere çeşitli inşaat malzemeleri, sabun ve deterjan gibi çeşitli temizlik ürünleri ve balata, hava yastığı gibi çeşitli otomotiv parçalarının üretiminde kullanılır. Petrol ve doğal gaz gibi yer altı kaynaklarının arama çalışmalarında açılan sondaj çalışmaları sırasında kullanılan çamurun üretiminde ise barit kullanılır.

CEVAP: A

**34.** Türkiye 36°-42° Kuzey paralelleri arasında yer almaktadır. Kuzey Yarım Küre'nin orta kuşağında yer alan ülkede cephe yağışları etkili olur. Bu yağışlar batı ve kutup rüzgârlarının karşılaştığı alanlarda oluştuklarından orta kuşakta yer alan ülkelere özgüdür. Bu kuşakta yer alan dağların güney yamaçları bakı etkisiyle Güneş'i daha büyük açılarla görür ve daha fazla ısınır. Bu nedenle ormanların yetişebildiği üst sınır da güney yamaçtan daha yüksektir. Daha kuzeyde yer alan Karadeniz kıyılarında sıcaklık, güneş ışınları daha küçük açılarla düştüğü için düşüktür. Batıdan doğuya doğru gidildikçe sıcaklık ortalamalarında görülen azalmanın nedeni ise enlem değerleri değil yükseltinin artmasıdır.

CEVAP: E

**36.** Türkiye hem iklim ve bitki örtüsü hem de arazi özelliklerinin etkisiyle birbirinden çok farklı özelliklere sahip olan toprak türlerinin görüldüğü bir ülkedir. Anadolu'nun iç kesimlerinde kahverengi step toprakları yaygındır. Karadeniz kıyılarında ise nemli ve yağışlı iklim koşulları altında oluşan kahverengi orman toprakları görülür. Dağlık alanların etek kesimlerinde kolüvyal, Kuzeydoğu Anadolu'daki çayır bitki örtüsü altında ise çernezyom toprakları görülür. Laterit topraklar ise sıcak ve nemli bölgelerde görülür. Ekvatorial, savan ve muson iklim tiplerinde görülen kiremit kırmızısı renkteki bu topraklar, Türkiye'nin doğal koşulları altında oluşmaz.

CEVAP: C

**35.** Akarsuların hidroelektrik enerji potansiyelini belirleyen temel özellikler; yatak eğimleri ve akış hızlarıdır. Bu ise arazinin eğimli ve engebeli olmasıyla ilgilidir. Eğim ve engebeyin genel olarak Türkiye'nin batı kesimlerinde az, doğu kesimlerinde ise fazla olması akarsuların hidroelektrik enerji potansiyellerini etkilemiştir.

CEVAP: D

**37.** Türkiye orta kuşakta yer alan bir ülkedir. Bu nedenle tropikal kuşak ülkelerinde etkili olan ve büyük kayıplara neden olan kasırgaların etkili olduğu bir ülke değildir. Ancak dağlık, eğimli ve yağışlı iklime sahip arazileri bulunduğundan özellikle kuzey kesimlerinde heyelanlar sık yaşanır. Sağanak yağışlar ve ani kar erimeleri gibi nedenlerle sel ve taşkınlar da yaşanmaktadır. Jeolojik açıdan genç oluşumlu olan ve bu nedenle aktif fay hatlarının yaygın olduğu ülkede, tektonik depremler en sık yaşanan ve en fazla kayıplara neden olan afetlerdir.

CEVAP: A

**38.** Çiftlikler, geniş bir tarım arazisinin ortasında kurulan ev ve eklentilerinden oluşan, tarım ve hayvancılık faaliyetlerinin yapıldığı köy altı yerleşme birimlerinden biridir. Bu nedenle çiftlik yerleşmeleri yer şekillerinin sade olduğu, tarım arazileri geniş olan yerlerde görülür. Haritada gösterilen II numaralı Güneydoğu Anadolu'da, IV numaralı Çukurova ve V numaralı Ergene Ovası gibi arazinin düz olduğu alanlarda çiftlikler yaygındır. Ancak I numaralı Doğu Karadeniz kıyı kuşağı ve III numaralı Menteşe (Muğla) yörelerinde arazi oldukça engebeli olduğu için çiftlik yerleşmeleri yaygın değildir.

CEVAP: B

**40.** Türkiye'de mera hayvancılığının yerine besi ve ahır hayvancılığının arttığı görülmektedir. Bu durum üretimde doğal koşullara olan bağımlılığı azaltır. Bundan kaynaklanan üretimdeki dalgalanmalar da azalır. Toplam et ve süt üretiminin artmasıyla hayvancılığın ülke ekonomisine katkısı da artar. Et ve süt verimi daha yüksek olan türler besleneceği için hayvan başına alınan verimde de artış görülür. Ancak bu durumda hayvancılıkla uğraşan kişi sayısının artması beklenmez. Modern yöntemlerin kullanılması durumunda üretici sayısı azalır, verimlilik ve üretim artar.

CEVAP: E

BENİM HOCAM BENİM BAŞARIM

Kpss Kaynak Arşivi - Kpss Doküman Arşivi  
<https://www.facebook.com/KpssKaynakArsivi>

**39.** Türkiye'nin güney ve batı kesimlerinde etkili olan iklim tipi Akdeniz'dir. Akdeniz ikliminin temel özelliklerinden biri de kış aylarının ılık geçmesidir. Zeytin gibi kış ılıklığına ihtiyaç duyan tarım ürünleri bu nedenle yaygın şekilde üretilmektedir. Pamuk, yer fıstığı, üzüm ve soya fasulyesi gibi ürünler, uygun şartların sağlandığı iç kesimlerde de üretilen tarım ürünleridir.

CEVAP: B

- 41.** • İhraç ürünleri içerisinde madencilik sektörünün payı diğer sektörlerden fazladır. (Yanlış) Türkiye'nin ihracatında maden ürünlerinin payı %2 civarındadır.
- Dış ticaret açığının kapanmasında en etkili olan faaliyet madenciliktir. (Yanlış) İhracattaki payı az olan madencilik dış ticaret açığının da kapanmasında payı azdır.
  - Türkiye'de az da olsa rezervi olmayan maden türü yoktur. (Yanlış) Türkiye maden çeşitliliğinin fazla olduğu bir ülkedir. Birçok maden türünün az da olsa rezervi bulunmaktadır. Ancak yeryüzünde bulunan tüm madenlerin yataklarına rastlanmaz.
  - Madencilik faaliyetleri için gerekli olan yatırımların hepsi devlet eliyle gerçekleştirilir. (Yanlış) Türkiye'de madencilik faaliyetlerinin yürütülebilmesi için gereken yatırımlar geçmiş yıllarda sadece devlet eliyle gerçekleştirilmişti. Ancak günümüzde çoğu yatırım devlet denetiminde özel sektör eliyle gerçekleştirilmektedir.
  - Türkiye'nin madencilik ürünlerinin yarısını mermer ve doğal taşlar oluşturur. (Doğru) Türkiye'de üretilen çoğu madenin ihracatı yapılır. Ancak bu ürünler içinde mermer ve diğer yapı taşlarının payı %50 civarındadır.

CEVAP: A

42. Türkiye’de sanayi her yerde eşit şekilde gelişmemiştir. Doğal ve beşerî avantajları nedeniyle Kocaeli gibi merkezlerde sanayinin ağırlığı oldukça fazladır. Bu durum beraberinde hava kirliliği gibi çeşitli çevre sorunlarına neden olmaktadır. Ancak Artvin, Iğdır, Siirt ve Gümüşhane gibi merkezlerde sanayi fazla gelişmediği için sanayiden kaynaklanan hava kirliliği de oldukça düşüktür.

CEVAP: C

44. Türkiye’de dinî turizm merkezi olarak kabul edilen birçok alan bulunmaktadır. Konya’daki Mevlâna Türbesi, Selçuk’taki (İzmir) Meryem Ana Kilisesi, Hatay’daki St. Pierre Kilisesi ve Van’daki Akdamar Kilisesi ilgi çeken dinî turizm merkezleridir. UNESCO Dünya Mirası Listesi’ne girmiş olan eserler olan Diyarbakır Surları ve Hevsel Bahçeleri, turizm açısından önem taşı-salar da dinî turizm açısından önem taşımazlar.

CEVAP: B

BENİM HOCAM BENİM BAŞARIM

43. İç ticaret ülke içindeki merkezler arasında görülen ticarî faaliyetlerdir. Doğal ve beşerî açıdan çok farklı bölgelere sahip olan Türkiye’de bu nedenle iç ticaret faaliyetleri çok canlıdır. Bu tür merkezlerde ulaşım imkânları oldukça fazladır. Üretim yaygın, sermaye girişi fazla, yatırımlar yaygındır. Bu merkezlerde yeni yatırım ve iş imkânları bulunur. Ancak ticaret merkezlerinde her türlü ekonomik faaliyet gelişse de temel ekonomik faaliyet tarım ve hayvancılık değil, hizmet sektörüdür.

CEVAP: D

45. Ege Bölgesi enerji kaynakları açısından oldukça elverişli imkânlarla sahiptir. Kırıklı yer yapısı sayesinde sıcak su kaynakları yaygındır. Bu sulardan jeotermal enerji elde edilir. Akdeniz iklimi etkili olduğu için güneşli gün sayısının fazla olması güneş enerjisi potansiyelini yükseltmiştir. Ancak Ege kıyılarının okyanusla bağlantısı olmadığı için gelgit olayı yaşanmaz. Ayrıca geniş ve düz bir arazi içinde akışa sahip olan akarsuların akış hızları az olduğu için hidroelektrik enerji potansiyelleri düşüktür.

CEVAP: D



46. Eşya üzerinde doğrudan, mutlak egemenlik yetkisi veren, herkese karşı ileri sürülebilen haklara aynı hak denir. Çanta, kalem, gömlek üzerindeki haklar gibi.

CEVAP: A

47. Bir gerçek kişinin doğumu ve soybağıyla ilgili kayıtları içeren kütük doğum kütüğüdür. Evlenme kütüğü evlenme bildirimlerinin, boşanma kütüğü boşanma bildirimlerinin, ölüm kütüğü ölüm tutanakları bildirimlerinin, yer değiştirme kütüğü yerleşim yeri değişiklik tutanakları bildirimlerinin kayıt altına alındığı özel kütüklerdir.

CEVAP: B

48. Dernek ve kooperatif kurmak için en az 7 kişi gerekir. Dernek, kazanç paylaşma dışında, kanunlarla yasaklanmamış belirli ve ortak bir amacı gerçekleştirmek üzere, en az yedi kişinin, bilgi ve çalışmalarını sürekli olarak birleştirmek suretiyle oluşturdukları tüzel bir kişiliğe sahip kişi topluluklarıdır.

CEVAP: D

49. Türkiye Büyük Millet Meclisi, 1982 Anayasası'nda yapılan 2017 Anayasa değişikliği ile genel oyla seçilen 600 milletvekilinden oluşacaktır. 2017 Anayasa değişikliği ile milletvekili sayısı 550'den 600'e çıkarılmıştır. Yeni düzenlemeyle birlikte milletvekilliği olağan genel seçimleri cumhurbaşkanlığı seçimleriyle birlikte 5 yılda bir, aynı günde yapılır.

CEVAP: E

50. 1982 Anayasası'nda yapılan 2017 Anayasa değişikliği ile milletvekilliği olağan genel seçimleri, cumhurbaşkanlığı seçimleriyle birlikte 5 yılda bir, aynı günde yapılır. Yapılan değişiklikle;

- Türkiye Büyük Millet Meclisi üye tam sayısının beşte üç çoğunluğu ile seçimlerin yenilenmesine karar verebilecek,
- Türkiye Büyük Millet Meclisi genel seçimi ile cumhurbaşkanlığı seçimi birlikte yapılacaktır,
- Cumhurbaşkanının seçimlerin yenilenmesine karar vermesi hâlinde Türkiye Büyük Millet Meclisi genel seçimi ile cumhurbaşkanlığı seçimi birlikte yapılacaktır,
- Cumhurbaşkanının ikinci döneminde meclis tarafından seçimlerin yenilenmesine karar verilmesi hâlinde cumhurbaşkanı bir defa daha aday olabilecektir,
- Seçimlerinin birlikte yenilenmesine karar verilen meclisin ve cumhurbaşkanının yetki ve görevleri, yeni meclisin ve cumhurbaşkanının görev başlamasına kadar devam edecektir,
- Seçilen meclisin ve cumhurbaşkanının görev süresi 5 yıl olacaktır.

CEVAP: C

**51.** Milletvekili seçilme yeterlilikleri arasında en az bir dönem milletvekilliği yapma şartı yoktur. Milletvekili seçilme yeterlilikleri:

- Türk vatandaşı olmak
- 18 yaşını doldurmuş olmak (2017 Anayasa değişikliği)
- En az ilkokul mezunu olmak
- Kısıtlı olmamak
- Askerlikle ilişkisi bulunmamak (2017 Anayasa değişikliği)
- Kamu hizmetinden yasaklı olmamak
- Taksirli suçlar hariç toplam bir yıl veya daha üstü hapis ile ağır hapis cezasından hüküm giymemiş olmak
- Zimmet, ihtilas, irtikâp, rüşvet, hırsızlık, dolandırıcılık, sahtecilik, inancı kötüye kullanma, iflas gibi yüz kızartıcı suçlarla; kaçakçılık, resmî ihale ve alım satımlara fesat karıştırmamış olmak (Affa uğramış olsalar bile seçilemezler.)
- Devlet sırlarını açığa vurma, terör eylemlerine katılma ve bu gibi eylemleri tahrik ve teşvik suçlarından biriyle hüküm giymemiş olmak (Affa uğramış olsalar bile seçilemezler.)

**CEVAP: D**

**52.** 1982 Anayasası'nda yapılan 2017 Anayasa değişikliği ile Askerî Yargıtay ile Askerî Yüksek İdare Mahkemesini düzenleyen Anayasa'nın 156 ve 157. maddeleri tamamen yürürlükten kaldırılmıştır. Değişiklikle anayasada belirtilen yüksek mahkemelerin sayısı dörde düşmüştür. 1982 Anayasası'nda yer alan yüksek mahkemeler:

- Anayasa Mahkemesi
- Yargıtay
- Danıştay
- Uyuşmazlık Mahkemesi

**CEVAP: D**

**53.** 1982 Anayasası'nda yapılan 2017 değişikliği ile Hâkimler ve Savcılar Kurulu on üç üyeden oluşur. Kurulun 4 üyesi Cumhurbaşkanı tarafından, kalan 7 üyesi ise TBMM tarafından seçilir. Adalet bakanı kurulun doğal başkanı, Adalet Bakanlığı müsteşarı kurulun doğal üyesidir.

**CEVAP: B**

54. Cumhurbaşkanının yönetmelik çıkarabilme yetkisi 2017 yılında yapılan değişiklikle getirilmiştir.

CEVAP: D

57. Avrupa Spor Kentleri Federasyonu (ACES Europe) Tekirdağ'ın Çorlu ilçesini "2020 Avrupa Spor Kenti" olarak belirledi. Çorlu Belediye Başkanı Ahmet Sarıkurt, Brüksel'de Avrupa Parlamentosunda düzenlenen ACES Europe Ödül Töreni'ne katılarak "2020 Avrupa Spor Kenti" unvanını Çorlu'ya getirdi.

CEVAP: E

55. Osman Hamdi Bey tarafından yapılan "Kaplumbağa Terbiyecisi" isimli ünlü tabloda mekân olarak, sanatçının resimlerinde sıkça karşımıza çıkan Bursa Yeşil Camii'nin üst kat odası kullanılmış, figür için pek çok resminde olduğu gibi Osman Hamdi'nin kendisi modellik etmiştir.

CEVAP: A

58. Mecalis-i Seba, Mevlâna'nın eseridir. Mevlâna Celâleddin-i Rûmî, şair, düşünce adamı ve mutasavvıftır.

Eserleri,

- Mesnevi
- Büyük Divan "Divan-ı Kebir"
- Fihi Ma-Fih "Ne Varsa İçindedir"
- Mecalis-i Seb'a "Mevlâna'nın 7 Vaazı"
- Mektubat "Mektuplar"

CEVAP: D

56. BM Genel Kurulunda, 2020 - 2021 Dönemi'nde BMGK'de görev yapacak 5 geçici üye için seçim yapıldı. Doğu Avrupa Grubu'ndan Estonya geçici üyeliği alarak, ülke tarihindeki ilk geçici üyeliğini kazanmış oldu. Afrika Grubu'ndan ise Tunus ve Nijerya BMGK'nin geçici üyeliğine seçildi. Tunus daha önce 3 kez, Nijerya ise 1 kez geçici üyeliğe aday olmuştu. Daha önce 1 kez konseyin geçici üyesi olan Vietnam ise Asya - Pasifik Grubu'ndan bir kez daha konseyin geçici üyeliğine seçildi. BMGK'de Latin Amerika ve Karayipler Grubu'ndan ise Saint Vincent ve Grenadinler ilk kez koltuk kazandı.

CEVAP: E

59. Ülkelerdeki çalışma yasalarında ve bu alana ilişkin uygulamalarda standartları geliştirmek ve ileriye götürmek gibi bir amaçla kurulan kuruludur. Merkezi İsviçre'nin Cenevre kentinde bulunmaktadır. Uluslararası Çalışma Örgütü'nün kısaltması ILO'dur.

CEVAP: C

60. Katar, başkent Doha'daki Kongre ve Kültür :  
Merkezinde düzenlenen törenle "2020 İslam  
Dünyası Gençlik Başkenti" unvanını Bangladeş'e  
devretti. Törene, yabancı ülkelerin diplomatik  
temsilcilerinin yanı sıra çok sayıda davetli katıl-  
dı. İslam Dünyası Gençlik Başkenti etkinlikleri  
kapsamında törende ayrıca, "görsel sanatlar,  
fotoğraf, kısa film ve inovasyon" kategorile-  
rinde Doha Ödülleri dağıtıldı. ICYF Başkanı  
Taha Ayhan, burada yaptığı konuşmada "İslam  
Dünyası Gençlik Başkenti programına büyük bir  
özveriyle ev sahipliği yaptığı için Katar'a teşekkür  
ediyorum." dedi. Ayhan, Katar'ın yerel ve  
bölgesel aktörlerle iş birliği yaparak, gençlerin  
fikirlerini dinleyerek, tüm yıl boyunca düzenlenen  
etkinliklere büyük bir destek verdiğini kaydetti.  
Dakka'nın 2020 yılında İslam Dünyası Gençlik  
Başkenti olacağını belirten Ayhan, başarı temen-  
nisinde bulundu. Tören, 2020 yılında İslam  
Dünyası Gençlik Başkentine ev sahipliği yap-  
cak Dakka için temsili anahtarın Bangladeşli  
yetkililere teslim edilmesiyle sona erdi.

CEVAP: D

BENİM HOCAM BENİM BAŞARIM

Kpss Kaynak Arşivi - Kpss Doküman Arşivi  
<https://www.facebook.com/KpssKaynakArsivi>